

Cálculo Diferencial e Integral

1) Función Número de miembros $N(x) = 50(2x^3 - 15x^2 + 36x + 2)$

a) Socios fundadores, haciendo $x = 0$, $T(0) = 100$

b) Aumento de socios.- Derivando $N'(x) = 50(6x^2 - 30x + 36)$, igualando a cero:

$$N'(x) = 50(6x^2 - 30x + 36) = 0 \Rightarrow 6x^2 - 30x + 36 = 0 \Rightarrow x^2 - 5x + 6 = 0 \Rightarrow \begin{cases} x = 3 \\ x = 2 \end{cases}$$

Estudiamos crecimiento de la función:

- $T'(1) = 600 > 0$ luego en $(0,2)$ crece
- $T'(2.5) = -75 < 0$ luego en $(2,3)$ decrece
- $T'(4) = 600 > 0$ luego en $(3,+\infty)$ crece

Aumenta el número de socios en $(2,3) \cup (3,+\infty)$

2) Sea $x = \text{pts}$, se tiene:

- Venta total: $(50 + x)(200 - 2x)$
- Coste total: $40(200 - 2x)$

Función beneficio: $B(x) = (50 + x)(200 - 2x) - 40(200 - 2x) = (10 + x)(200 - 2x) = 2000 + 180x - 2x^2$

Derivando: $B'(x) = 180 - 4x = 0 \Rightarrow x = 45$, derivando de nuevo $B''(x) = -4 < 0 \Rightarrow$ es máximo

Cada helado lo venderá a $50 + 45 = 95 \text{ pts}$

3) Sea $\begin{cases} x = \text{ancho} \\ y = \text{largo} \\ z = \text{alto} \end{cases}$ Se tiene $\begin{cases} x = z \\ x + y + z = 72 \end{cases}$ sustituyendo: $2x + y = 72 \Rightarrow y = 72 - 2x$

$\text{Volumen} = xyz = \text{sustituyendo} = x^2(72 - 2x) \Rightarrow V(x) = 72x^2 - 2x^3$

Derivando: $V'(x) = 144x - 6x^2 = 0 \Rightarrow x(144 - 6x) = 0 \Rightarrow \begin{cases} x = 0 \\ x = \frac{144}{6} = 24 \end{cases}$ Como $x \neq 0$, $x = z = y = 24$.

Se trata de un cubo de arista 24 cm

4) Sabemos que $\text{velocidad} = \frac{\text{espacio}}{\text{tiempo}} \Rightarrow v = \frac{ds}{dt} \Rightarrow s = \int v \cdot dt$

$$\text{Así: } s = \int_0^3 (80 + 3x) dx + \int_4^6 (108 - x) dx = \left[80x + \frac{3x^2}{2} \right]_0^3 + \left[108x - \frac{x^2}{2} \right]_4^6 = \frac{919}{2}$$

5) $y = x^3 + 3x^2$, $D = R$ (es un polinomio)

Derivando: $y' = 3x^2 + 6x = 0 \Rightarrow x(x+2) = 0 \Rightarrow \begin{cases} x=0 \\ x=-2 \end{cases}$. Sustituyendo: $\begin{cases} x=0 \Rightarrow y=0 \\ x=-2 \Rightarrow y=4 \end{cases}$

Derivando de nuevo: $y'' = 6x + 6 \Rightarrow \begin{cases} y''(0) = 6 > 0 \\ y''(-2) = -6 < 0 \end{cases}$, luego $(0,0)$ mínimo, $(-2,4)$ máximo

Igualando la 2ª derivada a cero: $6x + 6 = 0 \Rightarrow x = -1$, derivando de nuevo: $y''' = 6 \neq 0$

Luego $(-1,2)$ punto de inflexión.

6) Sabemos que $P(x) = ax^2 + bx + c$. Derivando $P'(x) = 2ax + b \Rightarrow P''(x) = 2a = 4 \Rightarrow a = 2$

Si $x = -1$ es un mínimo $P'(-1) = 0 \Rightarrow -2a + b = 0$, como $a = 2$, $b = 4$

Como $P(1) = 17 \Rightarrow a + b + c = 17 \Rightarrow$ sustituyendo a y b $6 + c = 17 \Rightarrow c = 11$

Así: $P(x) = 2x^2 + 4x + 11$

Monotonía.- $P'(x) = 4x + 4 = 0 \Rightarrow x = -1$

- $P'(-2) = -4 < 0$ luego en $(-\infty, -1)$ decrece
- $P'(0) = 4 > 0$ luego en $(-1, +\infty)$ crece

7) $y = -(x+2)(x-2)(x-4) =$ operando $= -(x^2 - 4)(x-4) = -x^3 + 4x^2 + 4x - 16$

a) Recta tangente en $x=0$.- $y - y(0) = y'(0)(x - 0)$ (1)

Derivando: $y' = -3x^2 + 8x + 4 \Rightarrow y'(0) = 4$. Como $y(0) = -16$, sustituyendo en (1)

$y + 16 = 4(x - 0) \Rightarrow y = 4x - 16$

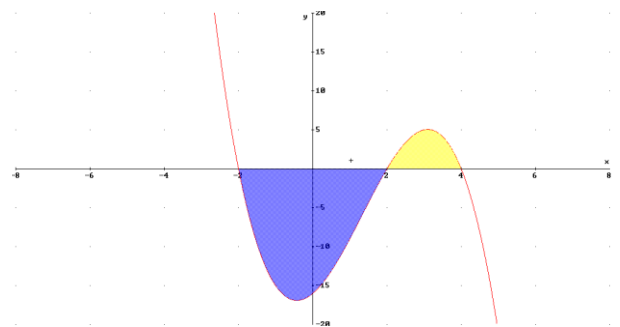
b) Area entre función y eje OX

Tal como está dada la función, corta al eje OX en los puntos $(-2,0)$, $(2,0)$, $(4,0)$

Así:

$$A = - \int_{-2}^2 (-x^3 + 4x^2 + 4x - 16) dx + \int_2^4 (-x^3 + 4x^2 + 4x - 16) dx =$$

$$= - \left[-\frac{x^4}{4} + \frac{4x^3}{3} + \frac{4x^2}{2} - 16x \right]_{-2}^0 + \left[-\frac{x^4}{4} + \frac{4x^3}{3} + \frac{4x^2}{2} - 16x \right]_2^4 = \frac{128}{3} + \frac{20}{3} = \frac{148}{3}$$



8) Consideremos $f(t) = e^{2t} + 1000$, nos piden $\int_1^3 (e^{2t} + 1000) dt = \left[\frac{e^{2t}}{2} + 1000t \right]_1^3 = \frac{e^6}{2} + 3000 - \left(\frac{e^2}{2} + 1000 \right) =$
 $= \frac{e^6 - e^2}{2} + 2000$. Tomando $e = 2.71$, obtenemos aproximando **2198 personas**

9) Sea $y(t) = n \exp(-0,0004t) = ne^{-0,0004t}$

a) $y(200) = 500e^{-0,0004 \cdot 200} = 461.558 \text{ gramos}$

b) Derivando $y'(t) = (-0,0004) \cdot 500 \cdot e^{-0,0004t} = -0,2 \cdot e^{-0,0004t} \text{ gramos}$

c) $y'(1000) = -0,2 \cdot e^{-0,0004 \cdot 1000} = -0,2 \cdot e^{-0,4}$

d) $y'(t) = -0,1637 \Rightarrow -0,2 \cdot e^{-0,0004t} = -0,1637 \Rightarrow e^{-0,0004t} = 0,8125 \Rightarrow -0,0004t = -0,2 \Rightarrow t = 500 \text{ años}$

10) a) $y = x^2 - 5x + 6$

- Cortes Ejes:

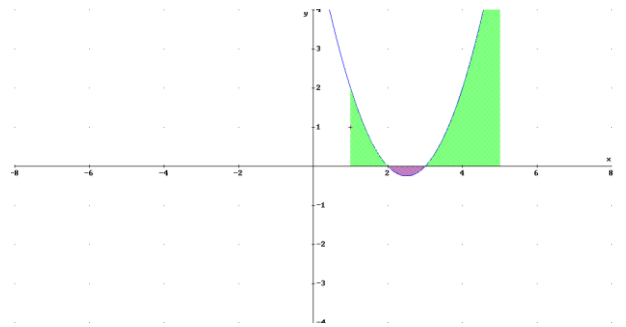
con OX : $y = 0 \Rightarrow x^2 - 5x + 6 = 0 \Rightarrow \begin{cases} x = 2 \\ x = 3 \end{cases}$

(2,0) y (3,0)

con OY: $x = 0 \Rightarrow y = 6$ (0,6)

- Maximos-Mínimos: $y' = 2x - 5 = 0 \Rightarrow x = \frac{5}{2}$

- Vértice.- Es el mínimo $V = \left(\frac{5}{2}, -\frac{1}{4} \right)$



b) $A = \int_1^2 (x^2 - 5x + 6) dx - \int_2^3 (x^2 - 5x + 6) dx + \int_3^5 (x^2 - 5x + 6) dx =$

$= \left[\frac{x^3}{3} - \frac{5x^2}{2} + 6x \right]_1^2 - \left[\frac{x^3}{3} - \frac{5x^2}{2} + 6x \right]_2^3 + \left[\frac{x^3}{3} - \frac{5x^2}{2} + 6x \right]_3^5 = \frac{5}{6} - \left(-\frac{1}{6} \right) + \frac{14}{3} = 1 + \frac{14}{3} = \frac{17}{3}$

11) Sea $y(t) = 100 + 200e^{0,2t}$

a) $y(0) = 100 + 200e^0 = 100 + 200 = 300$

b) $y'(t) = 0,2 \cdot 200e^{0,2t} = 40 \cdot e^{0,2t}$

c) $40 \cdot e^{0,2t} = 832,42 \Rightarrow e^{0,2t} = 20,8 \Rightarrow 0,2t \approx 3 \Rightarrow t = 15$ (el 15 de Enero)

12) Sabemos que $y'(t) = 10t - 50 \Rightarrow y(t) = \int (10t - 50) \cdot dt = \frac{10t^2}{2} - 50t + C \Rightarrow y(t) = 5t^2 - 50t + C$

Sabemos que $y(0) = 300000 \Rightarrow C = 300000 \Rightarrow y(t) = y(t) = 5t^2 - 50t + 300000$

El valor pedido será: $y(5) = 5 \cdot 5^2 - 50 \cdot 5 + 300000 = 299.875 \text{ pts}$

13) Sean x e y las medidas del campo (ver figura). Sabemos que $Perimetro = x + 2y \Rightarrow$



$$\Rightarrow 300x + 200y = 300000 \Rightarrow 3x + 2y = 3000 \Rightarrow y = \frac{3000 - 3x}{2}$$

$$\text{Como } Area = x \cdot y \Rightarrow S(x) = x \cdot \left(\frac{3000 - 3x}{2} \right) = \frac{3000x - 3x^2}{2}$$

(función a maximizar)

$$\text{Derivando: } S'(x) = \frac{1}{2}(3000 - 6x) = 0 \Rightarrow x = 500, \text{ luego } y = \frac{3000 - 1500}{2} = 750$$

$$\text{Area máxima: } 500 \cdot 750 = 375000 \text{ m}^2$$

$$14) f(x) = \begin{cases} x^2 + 1 & \text{si } x < 2 \\ 2x - 1 & \text{si } 2 \leq x < 4 \\ 5 & \text{si } x \geq 4 \end{cases}$$

a) Continuidad.- Estudiamos lo que ocurre en los puntos $x = 2$, $x = 4$

- En $x = 2$

$$\lim_{x \rightarrow 2^-} f(x) = \lim_{x \rightarrow 2^-} (x^2 + 1) = 5 \quad ; \quad \lim_{x \rightarrow 2^+} f(x) = \lim_{x \rightarrow 2^+} (2x - 1) = 3. \text{ Como son distintos, la función}$$

no es continua en el punto

- En $x = 4$

$$\lim_{x \rightarrow 4^-} f(x) = \lim_{x \rightarrow 4^-} (2x - 1) = 7 \quad ; \quad \lim_{x \rightarrow 4^+} f(x) = \lim_{x \rightarrow 4^+} (5) = 3. \text{ Como son distintos, la función}$$

no es continua en el punto.

Con lo que $f(x)$ es continua en $R - \{2, 4\}$

b) Recta tangente en $x = -2$. Su ecuación es: $y - y(-2) = y'(-2)(x + 2)$

$$\text{Derivando } f'(x) = \begin{cases} 2x & \text{si } x < 2 \\ 2 & \text{si } 2 < x < 4 \\ 0 & \text{si } x > 4 \end{cases}. \text{ Así: } y'(-2) = 2(-2) = -4. \text{ Como } y(-2) = (-2)^2 + 1 = 5,$$

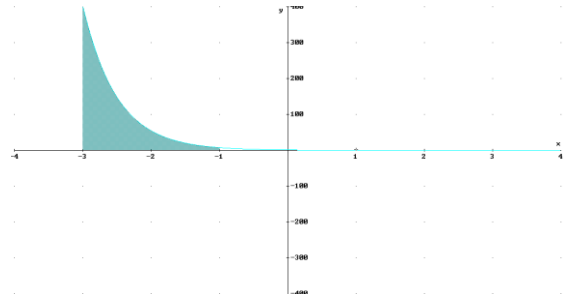
$$\text{Se tiene: } y - 5 = -4(x + 2)$$

15) Consideremos $y = e^{-2x}$, $x = -3$, $x = -1$ y el eje OX

La curva $y = e^{-2x}$ corta al eje OY en el punto $(0, 1)$, al eje OX no lo corta.

$$A = \int_{-3}^{-1} (e^{-2x}) dx = \left[\frac{e^{-2x}}{-2} \right]_{-3}^{-1} = \left(-\frac{1}{2} e^2 \right) - \left(-\frac{1}{2} e^6 \right) =$$

$$= -\frac{e^2}{2} + \frac{e^6}{2} = \frac{e^6 - e^2}{2}$$



16) Sea la función: $y = \frac{1}{12} x^4 + \frac{1}{6} x^3 + \frac{1}{2} x^2$

a) Derivando dos veces: $y' = \frac{4}{12} x^3 + \frac{3}{6} x^2 + \frac{2}{2} x = \frac{1}{3} x^3 + \frac{1}{2} x^2 + x \Rightarrow y'' = \frac{3}{3} x^2 + \frac{2}{2} x + 1 = x^2 + x + 1$

Al igualar a cero la 2ª derivada observamos que no tiene raíces reales. Luego no tiene puntos de inflexión

b) Igualando la 1ª derivada a cero $y' = \frac{1}{3} x^3 + \frac{1}{2} x^2 + x = 0 \Rightarrow 2x^3 + 3x^2 + 6x = 0 \Rightarrow x(2x^2 + 3x + 6) = 0 \Rightarrow$

$$\Rightarrow \begin{cases} x = 0 \\ 2x^2 + 3x + 6 = 0 \end{cases} \text{ Como la ecuación de 2º grado no tiene raíces reales, la solución es } x = 0$$

Sustituyendo en la 2ª derivada: $y''(0) = 1 > 0 \Rightarrow (0,0) \text{ min}$. No tiene máximos.

17) Se trata de hallar el máximo de $s(x) = 2x^3 - 15x^2 + 24x + 26$. Derivando: $s'(x) = 6x^2 - 30x + 24$

Igualando a cero, $6x^2 - 30x + 24 = 0 \Rightarrow x^2 - 5x + 4 = 0 \Rightarrow \begin{cases} x = 1 \\ x = 4 \end{cases}$

a) Calculamos derivada segunda: $s''(x) = 12x - 30$. Sustituyendo: $\begin{cases} s''(1) = -18 < 0 \\ s''(4) = 18 > 0 \end{cases}$, luego el máximo es $x = 1$

Luego el mayor número de socios lo tuvo el club el primer año

b) Cuatro años más tarde el club tuvo el número mínimo de socios (ver apartado a). No tuvo éxito

18) Sea $f(x) = 2x^3 + bx^2 + ax - 5$

a) Derivando: $f'(x) = 6x^2 + 2bx + a$. Como tiene un máximo en $x = 1$ y un mínimo en $x = 2$, se tiene:

$$\begin{cases} f'(1) = 0 \Rightarrow 6 + 2b + a = 0 \\ f'(2) = 0 \Rightarrow 24 + 4b + a = 0 \end{cases} \text{ Resolviendo: } a = 12, b = -9$$

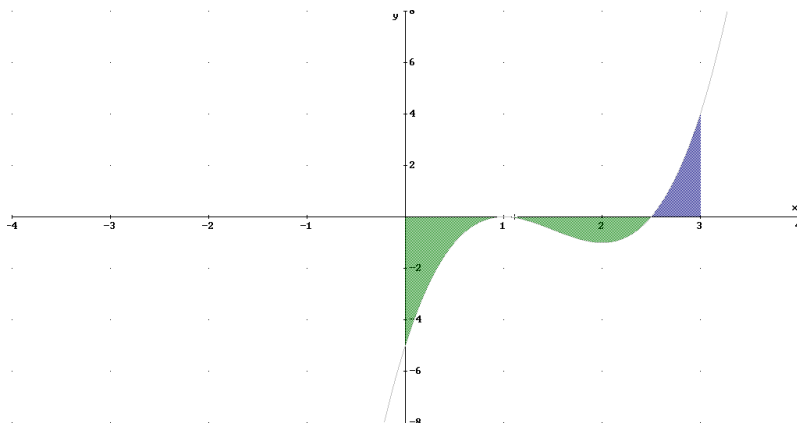
b) Sustituyendo los valores de a) $f(x) = 2x^3 - 9x^2 + 12x - 5$. Observando la gráfica:

$$A = -\int_0^1 (2x^3 - 9x^2 + 12x - 5) dx - \int_1^{5/2} (2x^3 - 9x^2 + 12x - 5) dx + \int_{5/2}^3 (2x^3 - 9x^2 + 12x - 5) dx$$

Como $\int (2x^3 - 9x^2 + 12x - 5) dx = \frac{2x^4}{4} - \frac{9x^3}{3} + \frac{12x^2}{2} - 5x + C = \frac{x^4}{2} - 3x^3 + 6x^2 - 5x + C$, sustituyendo:

$$A = -\left[\frac{x^4}{2} - 3x^3 + 6x^2 - 5x\right]_{-3}^{-1} - \left[\frac{x^4}{2} - 3x^3 + 6x^2 - 5x\right]_1^{5/2} + \left[\frac{x^4}{2} - 3x^3 + 6x^2 - 5x\right]_{5/2}^3 =$$

$$= -\left(-\frac{3}{2}\right) - \left(-\frac{27}{32}\right) + \frac{27}{32} = \frac{3}{2} + 2 \cdot \frac{27}{32} = \frac{3}{2} + \frac{27}{16} = \frac{51}{16}$$



19) Sabemos que $f(t) = \sqrt{-2t^2 + 8t}$ donde t número de años

a) Si $\sqrt{-2t^2 + 8t} = \sqrt{6} \Rightarrow -2t^2 + 8t = 6 \Rightarrow 2t^2 - 8t + 6 = 0 \Rightarrow \begin{cases} t=1 \\ t=3 \end{cases}$ luego en el **primer y tercer año**

b) La máxima altura se obtiene calculando el máximo de $f(t)$

$$\text{Derivando: } f'(t) = \frac{-4t + 8}{2\sqrt{-2t^2 + 8t}} = 0 \Rightarrow \frac{-2t + 4}{\sqrt{-2t^2 + 8t}} = 0 \Rightarrow -2t + 4 = 0 \Rightarrow t = 2$$

$$\text{Derivando de nuevo: } f''(t) = \frac{-4\sqrt{2}}{\sqrt{(4t - t^2)^3}} \Rightarrow f''(2) = \frac{-4\sqrt{2}}{\sqrt{(8 - 4)^3}} = \frac{-4\sqrt{2}}{8} = -\frac{\sqrt{2}}{2} < 0, \text{ luego el máximo se}$$

alcanza al **segundo año**. Dicho máximo vale **$f(2) = \sqrt{8}$**

20) Sea $f(x) = 3x - x^3$. Su dominio es R (es un polinomio)

a) Derivando: $f'(x) = 3 - 3x^2 = 0 \Rightarrow x^2 = 1 \Rightarrow x = \pm 1$

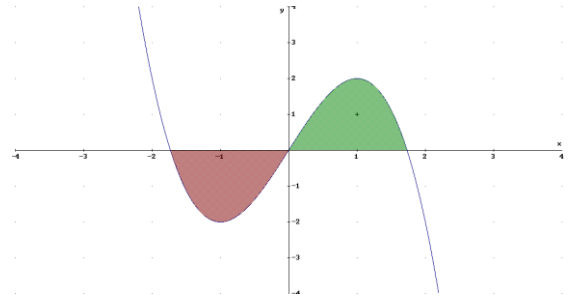
Derivando de nuevo:

$$f''(x) = -6x \Rightarrow \begin{cases} f''(-1) = 6 > 0 \\ f''(1) = -6 < 0 \end{cases} \Rightarrow (-1, -2) \text{ es mínimo}$$

y $(1, 2)$ máximo

$$\text{Como } f''(x) = -6x = 0 \Rightarrow x = 0 \text{ y } f'''(x) = -6 \neq 0 \Rightarrow$$

$(0, 0)$ es un punto de inflexión.



b)

$$A = - \int_{-\sqrt{3}}^0 (3x - x^3) dx + \int_0^{\sqrt{3}} (3x - x^3) dx = - \left[\frac{3x^2}{2} - \frac{x^4}{4} \right]_{-\sqrt{3}}^0 + \left[\frac{3x^2}{2} - \frac{x^4}{4} \right]_0^{\sqrt{3}} = - \left(-\frac{9}{4} \right) + \frac{9}{4} = \frac{18}{4} \Rightarrow$$

$$\Rightarrow A = \frac{9}{2}$$

21) Como el denominador no tiene raíces reales. El dominio de $f(t) = \frac{30t}{t^2 - 2t + 4}$ es \mathbb{R}

a) La tasa de cambio la obtenemos derivando la función, $f'(t) = \frac{30(4-t^2)}{(t^2 - 2t + 4)^2}$. En el cuarto día sustituimos t

por 4, $f'(4) = -\frac{5}{2}$

b) Igualando la derivada a cero: $f'(t) = \frac{30(4-t^2)}{(t^2 - 2t + 4)^2} = 0 \Rightarrow 30(4-t^2) = 0 \Rightarrow 4-t^2 = 0 \Rightarrow t = 2$

($t = -2$ no es válida pues $t > 0$)

Calculando la segunda derivada: $f''(t) = \frac{60(t^3 - 12t + 8)}{(t^2 - 2t + 4)^3} \Rightarrow f''(2) = -\frac{15}{2} < 0$, luego el máximo se alcanza el

segundo día y el valor será $f(2) = 15$ enfermos

c) Calculamos $\lim_{t \rightarrow +\infty} f(t) = \lim_{t \rightarrow +\infty} \frac{30t}{t^2 - 2t + 4} = 0$, luego la enfermedad se extinguirá

22) Sea $f(x) = -x^3 + 26x$. Si las rectas tangentes tienen que ser paralelas a las rectas $y = -x$, sus pendientes valdrán -1 . Derivando $f'(x) = -1 \Rightarrow -3x^2 + 26 = -1 \Rightarrow x^2 = 9 \Rightarrow x = \pm 3$. Sustituyendo en la curva obtendremos

los puntos de tangencia $\left\{ \begin{array}{l} f(-3) = 27 - 78 = -51 \\ f(3) = -27 + 78 = 51 \end{array} \right\} \Rightarrow P_1(-3, -51) \text{ y } P_2(3, 51)$. Calculamos rectas tangentes:

- $y - f(-3) = -(x + 3) \Rightarrow y + x + 54 = 0$

- $y - f(3) = -(x - 3) \Rightarrow y + x - 54 = 0$

23) $f(x) = 2x^3 - 21x^2 + 60x - 32$

a) Máximos y mínimos.- Derivando $f'(x) = 6x^2 - 42x + 60 = 0 \Rightarrow x^2 - 7x + 10 = 0 \Rightarrow x = 2, x = 5$

Derivando de nuevo $f''(x) = 12x - 42 \Rightarrow \left\{ \begin{array}{l} f''(2) = -18 < 0 \\ f''(5) = 18 > 0 \end{array} \right\} \Rightarrow$ En $x = 2$ existe un máximo y en $x = 5$

un mínimo.

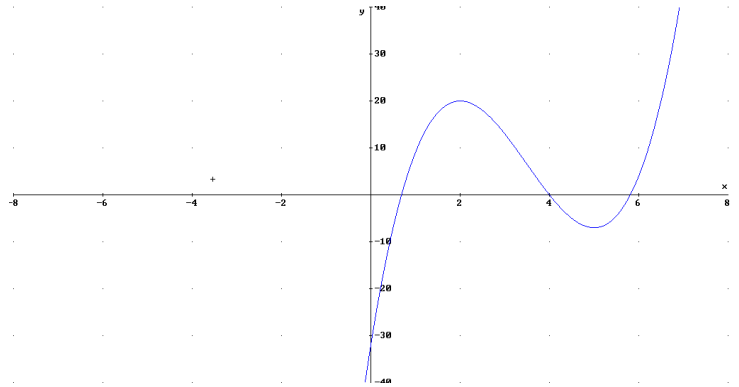
b) Crecimiento y Decrecimiento.-

De la derivada primera:

$$f'(x) = 6x^2 - 42x + 60 = 6(x-2)(x-5)$$

Estudiamos crecimiento de la función:

- $f'(0) = 60 > 0$ luego en $(-\infty, 2)$ crece
- $f'(3) = -120 < 0$ luego en $(2, 5)$ decrece
- $f'(6) = 24 > 0$ luego en $(5, +\infty)$ crece



24) Función coste: $C(x) = 3x^2 - 27x + 108$

a) Se trata de minimizar la función $M(x) = \frac{C(x)}{x} = \frac{3x^2 - 27x + 108}{x}$

Derivando e igualando a cero: $M'(x) = \frac{3x^2 - 108}{x^2} = 0 \Leftrightarrow x^2 = 36 \Rightarrow x = 6$ (no puede ser negativo)

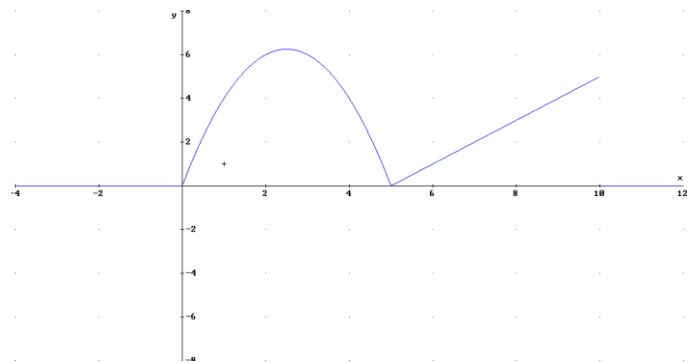
Derivando de nuevo: $M''(x) = \frac{216}{x^3} \Rightarrow M''(6) = 1 > 0$, luego $x = 6$ mínimo

b) Como $M''(x) = \frac{216}{x^3} \neq 0 \Rightarrow$ No tiene puntos de inflexión

25) Consideremos $f(x) = \begin{cases} -x^2 + 5x & \text{si } 0 \leq x < 5 \\ x - 5 & \text{si } 5 \leq x \leq 10 \end{cases}$

Continuidad.- El único punto donde puede fallar la continuidad es $x = 5$

- $\lim_{x \rightarrow 5^-} f(x) = \lim_{x \rightarrow 5^-} (-x^2 + 5x) = 0$
- $\lim_{x \rightarrow 5^+} f(x) = \lim_{x \rightarrow 5^+} (x - 5) = 0$
- $f(5) = 5 - 5 = 0$. Luego $f(x)$ es continua en \mathbb{R}



26) Sea la función: $f(x) = \begin{cases} \frac{x+2}{x-1} & \text{si } x \leq 2 \\ \frac{3x^2 - 2x}{x+2} & \text{si } x > 2 \end{cases}$

a) Continuidad en $x=2$. Calculamos límites laterales:

$$\lim_{x \rightarrow 2^-} f(x) = \lim_{x \rightarrow 2^-} \left(\frac{x+2}{x-1} \right) = 4 \quad ; \quad \lim_{x \rightarrow 2^+} f(x) = \lim_{x \rightarrow 2^+} \left(\frac{3x^2 - 2x}{x+2} \right) = \frac{8}{4} = 2. \text{ Como son distintos, } \underline{\text{no es continua}}$$

b) Recta tangente en $x=3$ será $y - f(3) = f'(3)(x-3)$

$$\text{Derivando la función } f'(x) = \begin{cases} \frac{-3}{(x-1)^2} & \text{si } x < 2 \\ \frac{3x^2 + 12x - 4}{(x+2)^2} & \text{si } x > 2 \end{cases} . \text{ Así } f'(3) = \left(\frac{3x^2 + 12x - 4}{(x+2)^2} \right)_{x=3} = \frac{59}{25}$$

Como $f(3) = \frac{21}{5}$, la recta tangente será: $y - \frac{21}{5} = \frac{59}{25}(x-3)$

c) Asíntotas oblicuas. - Es claro que si $x < 2$ no tiene pues $\lim_{x \rightarrow -\infty} \left(\frac{x+2}{x-1} \right) = \lim_{x \rightarrow -\infty} \left(\frac{x+2}{x^2 - x} \right) = 0$

La ecuación de la asíntota es $y = mx + n$. Si $x > 2$, $m = \lim_{x \rightarrow +\infty} \left(\frac{3x^2 - 2x}{x+2} \right) = \lim_{x \rightarrow +\infty} \left(\frac{3x^2 - 2x}{x^2 + 2x} \right) = 3$

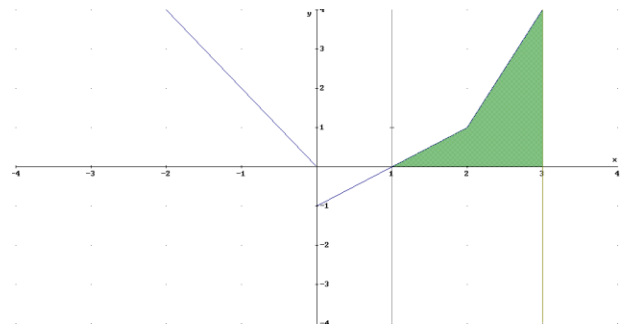
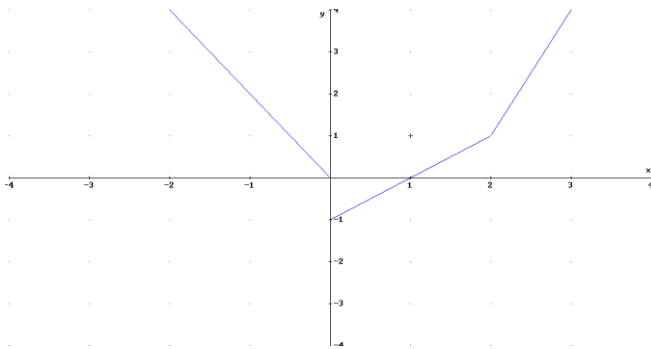
$$n = \lim_{x \rightarrow +\infty} (f(x) - mx) = \lim_{x \rightarrow +\infty} \left(\frac{3x^2 + 12x - 4}{(x+2)^2} - 3x \right) = \lim_{x \rightarrow +\infty} \left(\frac{-8x}{x+2} \right) = -8. \text{ Luego } \underline{y = 3x - 8}$$

27) Sea $f(x) = \begin{cases} -2x - a & \text{si } x \leq 0 \\ x - 1 & \text{si } 0 < x \leq 2 \\ bx - 5 & \text{si } x > 2 \end{cases}$

a) Continuidad. - La estudiamos en los puntos de enganche, $x=0$ y $x=2$

- En $x=0$: $\lim_{x \rightarrow 0^-} f(x) = \lim_{x \rightarrow 0^-} (-2x - a) = -a$; $\lim_{x \rightarrow 0^+} f(x) = \lim_{x \rightarrow 0^+} (x - 1) = -1$. Igualando $\underline{a=1}$
- En $x=2$: $\lim_{x \rightarrow 2^-} f(x) = \lim_{x \rightarrow 2^-} (x - 1) = 1$; $\lim_{x \rightarrow 2^+} f(x) = \lim_{x \rightarrow 2^+} (bx - 5) = 2b - 5$. Igualando $\underline{b=3}$

b) Sustituyendo los valores $a=0$ y $b=3$, la función quedará: $f(x) = \begin{cases} -2x & \text{si } x \leq 0 \\ x - 1 & \text{si } 0 < x \leq 2 \\ 3x - 5 & \text{si } x > 2 \end{cases}$



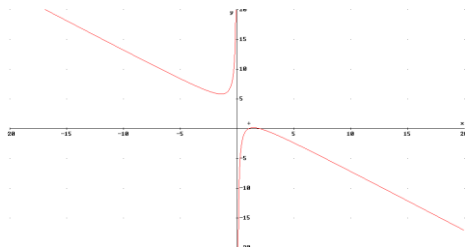
Así: $A = \int_1^2 (x-1) dx + \int_2^3 (3x-5) dx = \left[\frac{x^2}{2} - x \right]_1^2 + \left[\frac{3x^2}{2} - 5x \right]_2^3 = \frac{1}{2} + \frac{5}{2} = 3$

28) Sea la función: $f(x) = 3 - x - \frac{2}{x}$

a) Máximos y mínimos. - Derivando: $f'(x) = -1 + \frac{2}{x^2} = 0 \Rightarrow x^2 = 2 \Rightarrow x = \pm\sqrt{2}$

Derivando de nuevo: $f''(x) = -\frac{4}{x^3} \Rightarrow \begin{cases} f''(-\sqrt{2}) = \sqrt{2} > 0 \\ f''(\sqrt{2}) = -\sqrt{2} < 0 \end{cases} \Rightarrow$ en $x = -\sqrt{2}$ tiene un mínimo y en $x = \sqrt{2}$

un máximo.



b) $A = \int_1^2 \left(3 - x - \frac{2}{x} \right) dx = \left[3x - \frac{x^2}{2} - 2 \ln x \right]_1^2 = \frac{3}{2} - 2 \ln 2$

29) La función viene definida por: $s(t) = \frac{340 + 330t - 10t^2}{t + 2}$

a) $s(t) = 0 \Rightarrow \frac{340 + 330t - 10t^2}{t + 2} = 0 \Rightarrow 340 + 330t - 10t^2 = 0 \Rightarrow t^2 - 33t - 34 = 0 \Rightarrow \begin{cases} t = -1 \\ t = 34 \end{cases}$. Como t tiene que

ser positivo $t = 34$

b) Derivando: $s'(t) = \frac{320 - 40t - 10t^2}{(t + 2)^2} = 0 \Rightarrow \begin{cases} t = -8 \\ t = 4 \end{cases}$ estudiando su monotonía:

	$(-\infty, -8)$	$(-8, 4)$	$(4, \infty)$
$s'(x)$	-	+	-
$s(x)$	decrece	crece	decrece

Luego como t ha de ser positivo, vemos que en $t = 4$

la función pasa de crecer a decrecer con lo que

Se trata de un máximo.

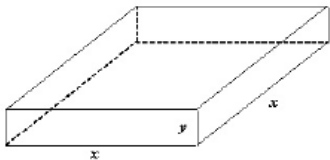
c) Asíntotas.- Verticales: Como $\lim_{t \rightarrow -2} s(t) = \lim_{t \rightarrow -2} \frac{340 + 330t - 10t^2}{t + 2} = \infty$, $t = -2$ es asíntota vertical.

Horizontales.- $\lim_{t \rightarrow +\infty} s(t) = \lim_{t \rightarrow +\infty} \frac{340 + 330t - 10t^2}{t + 2} = \infty$, luego no tiene

Oblicuas.- $m = \lim_{t \rightarrow +\infty} \frac{340 + 330t - 10t^2}{t + 2} = \lim_{t \rightarrow +\infty} \frac{340 + 330t - 10t^2}{t(t + 2)} = -10$

$n = \lim_{t \rightarrow +\infty} (s(t) - mt) = \lim_{t \rightarrow +\infty} \left(\frac{340 + 330t - 10t^2}{t + 2} + 10t \right) = 350$. Luego asíntota: $y = -10t + 350$

30) Sea x = lado de la base ; y = altura de la caja. Sabemos que $Vol = 500$, es decir: $V = x^2 y = 500$



Se trata de minimizar el área de la caja: $S = 4xy + x^2$

De la expresión del volumen: $y = \frac{500}{x^2}$, sustituyendo en el área:

$S(x) = 4x \cdot \frac{500}{x^2} + x^2 = \frac{2000}{x} + x^2$. Derivando: $S'(x) = -\frac{2000}{x^2} + 2x$

Igualando a cero $-\frac{2000}{x^2} + 2x = 0 \Rightarrow x^3 = 1000 \Rightarrow x = 10$

Sustituyendo en la expresión de y : $y = \frac{500}{10^2} = \frac{500}{100} \Rightarrow y = 5$

31) $f(x) = \frac{1}{3}x^3 + \frac{1}{2}x^2 - 2x + 1$. Su dominio es \mathbb{R} (es un polinomio)

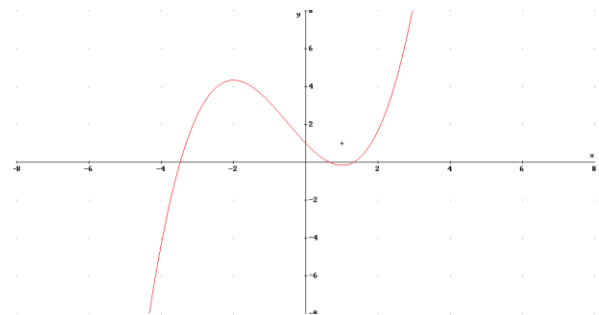
a) Máximos y mínimos.- Derivando e igualando a cero

$$f'(x) = \frac{1}{3} \cdot 3x^2 + \frac{1}{2} \cdot 2x - 2 = x^2 + x - 2 = 0 \Rightarrow \begin{cases} x = -2 \\ x = 1 \end{cases}$$

Derivando de nuevo:

$$f''(x) = 2x + 1 \Rightarrow \begin{cases} f''(-2) = -3 < 0 \\ f''(1) = 3 > 0 \end{cases} \Rightarrow \left(-2, \frac{13}{3}\right) \text{ máximo}$$

y $\left(1, -\frac{1}{6}\right)$ mínimo.



b) Puntos de inflexión: Igualando la 2ª derivada a cero:

$$f''(x) = 2x + 1 = 0 \Rightarrow x = -\frac{1}{2}. \text{ Como } f'''(x) = 2 \neq 0$$

$\left(-\frac{1}{2}, \frac{25}{12}\right)$ es punto de inflexión.

32) Sean $f(x) = x^2 + ax + b$, $g(x) = -x^2 + c$

a) Si se cortan en $(-2, 3) \Rightarrow \begin{cases} f(-2) = 3 \Rightarrow 4 - 2a + b = -3 \\ g(-2) = 3 \Rightarrow -4 + c = -3 \end{cases} \Rightarrow b - 2a = -7$ y $c = 1$

Si se cortan en $(1, 0) \Rightarrow \begin{cases} f(1) = 0 \Rightarrow 1 + a + b = 0 \\ g(1) = 0 \Rightarrow -1 + c = 0 \end{cases} \Rightarrow a + b = -1$. Así se forma el sistema de ecuaciones:

$$\begin{cases} b - 2a = -7 \\ a + b = -1 \end{cases} \Rightarrow a = 2 \text{ y } b = -3$$

b) Tangente a $g(x)$ en $(-2, -3)$: $y + 3 = g'(-2)(x + 2)$

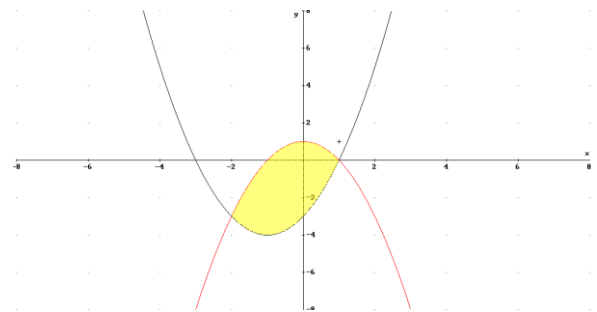
Derivando: $g'(x) = -2x \Rightarrow g'(-2) = 4 \Rightarrow$ Sustituyendo: $y + 3 = 4(x + 2)$

c) Area entre $f(x) = x^2 + 2x - 3$ y $g(x) = -x^2 + 1$

Sabemos por el apartado a) que se cortan en $(-2, 3)$ y $(1, 0)$

Así:

$$\begin{aligned} A &= \int_{-2}^1 (g(x) - f(x)) dx = \int_{-2}^1 (-x^2 + 1 - x^2 - 2x + 3) dx = \\ &= \int_{-2}^1 (-2x^2 - 2x + 4) dx = \left[-\frac{2x^3}{3} - x^2 + 4x \right]_{-2}^1 = 9 \end{aligned}$$



33) Sea la función: $f(x) = 2x^2 - \frac{1}{3}x^3$. Al ser un polinomio su dominio es \mathbb{R}

a) Crecimiento y decrecimiento: Derivando e igualando a cero: $f'(x) = 4x - x^2 = 0 \Rightarrow \begin{cases} x = 0 \\ x = 4 \end{cases}$

	$(-\infty, 0)$	$(0, 4)$	$(4, \infty)$
$f'(x)$	+	-	+
$f(x)$	Decrec	Creciente	Derec

b) Del apartado anterior se deduce que $(0, 0)$ es un mínimo y $\left(4, \frac{32}{3}\right)$ máximo

c) El valor de la pendiente es $f'(x) = 4x - x^2$, para maximizar derivamos: $f''(x) = 4 - 2x = 0 \Rightarrow x = 2$. Como $f'''(x) = -2 < 0 \Rightarrow x = 2$ es máximo.

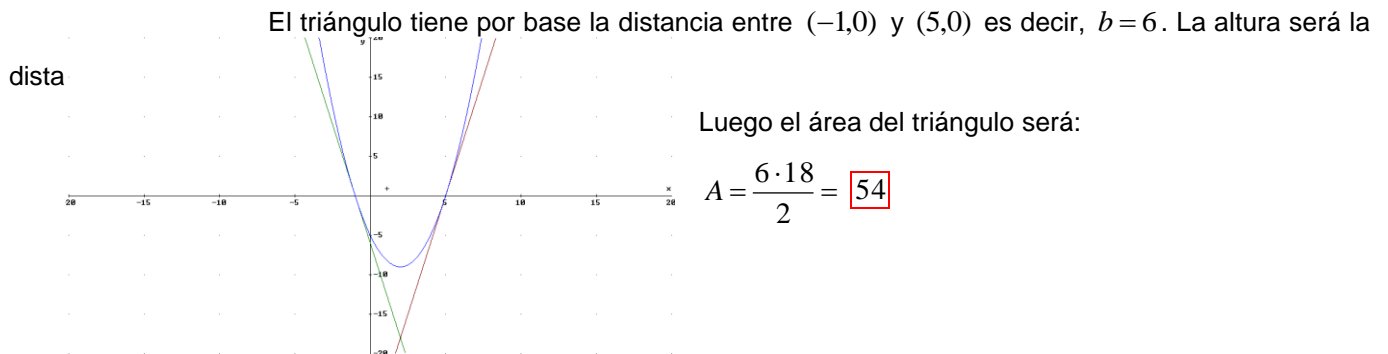
34) Sea la curva $y = x^2 - 4x - 5$

a) Al ser una parábola, el mínimo coincide con el vértice. Derivando: $y' = 2x - 4 = 0 \Rightarrow x = 2$

Sustituyendo en la función el mínimo será $(2, -9)$

b) Cortes curva con eje OX: $\begin{cases} y = x^2 - 4x - 5 \\ y = 0 \end{cases} \Rightarrow (5,0) \text{ y } (-1,0)$

Rectas tangentes en estos puntos: $\begin{cases} y - 0 = 6(x - 5) \\ y - 0 = -6(x + 1) \end{cases} \Rightarrow \begin{cases} y = 6(x - 5) \\ y = -6(x + 1) \end{cases}$ Para hallar el punto de corte entre ellas resolvemos el sistema de ecuaciones: $y = 6(x - 5) = -6(x + 1) \Rightarrow x = 2$. Con lo que dicho punto será $(2, -18)$. Construimos el triángulo de vértices: $(2, -18)$, $(-1, 0)$ y $(5, 0)$



35) Se la curva $y = x^3 - 4x$

a) Cortes con los ejes.

- Con el eje OX.- $y = 0 \Rightarrow x^3 - 4x = 0 \Rightarrow x(x^2 - 4) = 0 \Rightarrow \begin{cases} x = 0 \\ x = -2 \\ x = 2 \end{cases} \Rightarrow (0,0), (-2,0) \text{ y } (2,0)$
- Con el eje OY.- $x = 0 \Rightarrow y = 0 \Rightarrow (0,0)$

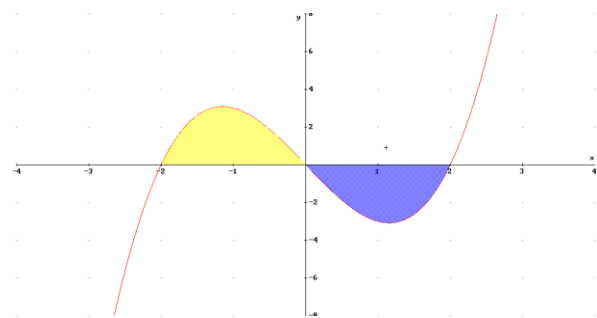
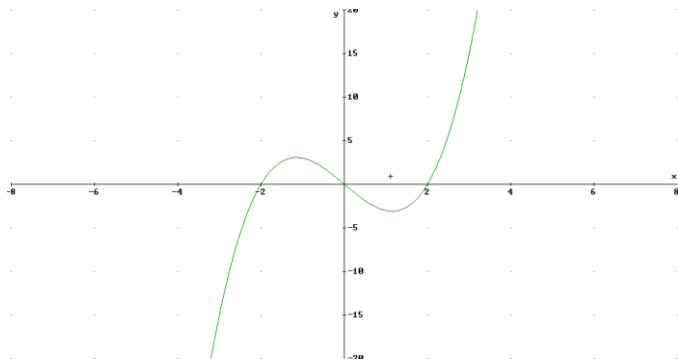
Máximos y mínimos.- Derivando: $y' = 3x^2 - 4 = 0 \Rightarrow x = \pm \frac{2\sqrt{3}}{3}$

	$(-\infty, -\frac{2\sqrt{3}}{3})$	$(-\frac{2\sqrt{3}}{3}, \frac{2\sqrt{3}}{3})$	$(\frac{2\sqrt{3}}{3}, \infty)$
$f'(x)$	+	-	+
$f(x)$	crece	decrece	crece

Luego $(-\frac{2\sqrt{3}}{3}, \frac{16\sqrt{3}}{3})$ en tiene un máximo

y en $(\frac{2\sqrt{3}}{3}, -\frac{16\sqrt{3}}{3})$ un mínimo

b) Representación gráfica



$$\text{c) } A = \int_{-2}^0 (x^3 - 4x) dx - \int_0^2 (x^3 - 4x) dx = \text{por simetría} = -2 \int_0^2 (x^3 - 4x) dx = -2 \left[\frac{x^4}{4} - 2x^2 \right]_0^2 = -2(-4) = \boxed{8}$$

36) Sea $f(x) = \frac{3x^2 - ax}{x+2}$, su dominio es $R - \{-2\}$

a) Si tiene un mínimo relativo en $x=2 \Rightarrow f'(2)=0$ y $f''(2) > 0$

$$\text{Derivando: } f'(x) = \frac{3x^2 + 12x - 2a}{(x+2)^2}. \text{ Si } f'(2)=0 \Rightarrow \frac{12+24-2a}{16} = 0 \Rightarrow 36-2a=0 \Rightarrow \boxed{a=18}$$

$$\text{Comprobando: } f''(x) = \frac{4(a+6)}{(x+2)^3} = \text{si } (a=18) = f''(x) = \frac{96}{(x+2)^3} \Rightarrow f''(2) = \frac{96}{64} > 0, \text{ luego mínimo}$$

b) Si $a=3$, $f(x) = \frac{3x^2 - 3x}{x+2}$, calculamos asíntotas:

- Verticales.- $\boxed{x=-2}$, pues $\lim_{x \rightarrow -2} f(x) = \lim_{x \rightarrow -2} \left(\frac{3x^2 - 3x}{x+2} \right) = \frac{18}{0} = \pm\infty$

- Horizontales.- $\lim_{x \rightarrow +\infty} f(x) = \lim_{x \rightarrow +\infty} \frac{3x^2 - 3x}{x+2} = \infty$, luego no tiene

- Oblicuas.- $m = \lim_{x \rightarrow \infty} \frac{f(x)}{x} = \lim_{x \rightarrow \infty} \frac{3x^2 - 3x}{x(x+2)} = \lim_{x \rightarrow \infty} \frac{3x^2 - 3x}{x^2 + 2x} = 3$

$$n = \lim_{x \rightarrow \infty} (f(x) - 3x) = \lim_{x \rightarrow \infty} \left(\frac{3x^2 - 3x}{x+2} - 3x \right) = \lim_{x \rightarrow \infty} \frac{3x^2 - 3x - 3x^2 - 6x}{x+2} = \lim_{x \rightarrow \infty} \left(\frac{-9x}{x+2} \right) = -9$$

luego asíntota oblicua $\boxed{y=3x-9}$

37) a) $\int_0^3 \frac{1}{x+1} dx = a \Rightarrow [\ln|x+1|]_0^3 = a \Rightarrow \ln 4 - \ln 1 = a \Rightarrow \boxed{a = \ln 4}$

b) $\int_0^a \frac{1}{x+1} dx = 3 \Rightarrow [\ln|x+1|]_0^a = 3 \Rightarrow \ln|a+1| - \ln 1 = 3 \Rightarrow \ln|a+1| = 3 \Rightarrow a+1 = e^3 \Rightarrow \boxed{a = e^3 - 1}$

$$\text{c) } \int_0^3 \frac{1}{x+a} dx = 5 \Rightarrow \Rightarrow [\ln|x+a|]_0^3 = 5 \Rightarrow \ln|3+a| - \ln a = 5 \Rightarrow \ln \left| \frac{3+a}{a} \right| = 5 \Rightarrow \frac{3+a}{a} = e^5 \Rightarrow 3+a = ae^5 \Rightarrow$$

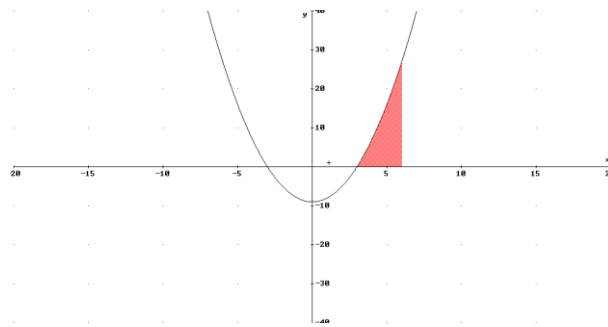
$$\Rightarrow 3 = a(e^5 - 1) \Rightarrow a = \frac{3}{e^5 - 1}$$

38) Sean las funciones $f(x) = x^2 - 9$, $g(x) = x^2 - x - 6$.

$$\text{a) } \lim_{x \rightarrow 3} \frac{f(x)}{g(x)} = \lim_{x \rightarrow 3} \frac{x^2 - 9}{x^2 - x - 6} = \frac{0}{0} = \lim_{x \rightarrow 3} \frac{(x-3)(x+3)}{(x+2)(x-3)} = \lim_{x \rightarrow 3} \frac{x+3}{x+2} = \frac{6}{5}$$

b) Extremos de $g(x)$.- Derivando: $g'(x) = 2x - 1 = 0 \Rightarrow x = \frac{1}{2}$. Como $g''(x) = 2 > 0 \Rightarrow \left(\frac{1}{2}, -\frac{25}{4} \right)$ es mínimo

$$\text{c) } \underline{\text{Area}} \quad A = \int_3^6 (x^2 - 9) dx = \left[\frac{x^3}{3} - 9x \right]_3^6 = \left(\frac{216}{3} - 54 \right) - \left(\frac{27}{3} - 9 \right) = 36$$



39) Sea $f(x) = \frac{x}{1-x^2}$. Su dominio es $R - \{\pm 1\}$

a) Crecimiento y Decrecimiento.- Derivando: $f'(x) = \frac{x^2 + 1}{(1-x^2)^2} > 0$, luego la función es siempre creciente en

su dominio. No tiene extremos

b) Asíntotas.- Verticales.- Como $\lim_{x \rightarrow -1} f(x) = \lim_{x \rightarrow -1} \left(\frac{x}{1-x^2} \right) = \pm\infty$ y $\lim_{x \rightarrow 1} f(x) = \lim_{x \rightarrow 1} \left(\frac{x}{1-x^2} \right) = \pm\infty$,

las rectas $x = -1$, $x = 1$ lo son.

Verticales.- $\lim_{x \rightarrow +\infty} f(x) = \lim_{x \rightarrow +\infty} \frac{x}{1-x^2} = 0 \Rightarrow$ lo es la recta $y = 0$

c) Recta tangente en $x = 0$.- Se trata de la recta $y - f(0) = f'(0)(x - 0)$. Como $f(0) = 0$ y $f'(0) = 1$,

se tiene: $y = x$

40) Sea $f(x) = x \cdot e^{x^2}$ su dominio es \mathbb{R}

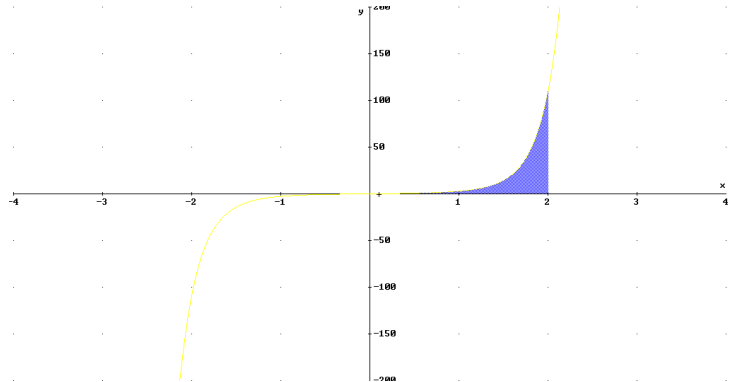
a) Recta tangente en $x=1$ - Es la recta $y - f(1) = f'(1)(x - 1)$.

Derivando: Como $f'(x) = e^{x^2} + 2x^2 e^{x^2} = (2x + 1)e^{x^2} \Rightarrow f'(1) = 3e$. Como $f(1) = e$, se tiene:

$$y - e = 3e(x - 1)$$

b) Area

$$A = \int_0^2 (x e^{x^2}) dx = \left[\frac{1}{2} e^{x^2} \right]_0^2 = \frac{e^4 - 1}{2}$$



41) Sea $f(x) = \frac{-x^3 + 1}{2x^2 + 2x - 12}$

a) Dominio.- $2x^2 + 2x - 12 = 0 \Rightarrow x^2 + x - 6 = 0 \Rightarrow \begin{cases} x=2 \\ x=-3 \end{cases}$, luego $\mathbb{R} - \{-3, 2\}$

b) Continuidad.- Estudiamos los puntos que no están en el dominio

• En $x = -3$.- $\lim_{x \rightarrow -3} f(x) = \lim_{x \rightarrow -3} \left(\frac{-x^3 + 1}{2x^2 + 2x - 12} \right) = \pm\infty$

• En $x = 2$.- $\lim_{x \rightarrow 2} f(x) = \lim_{x \rightarrow 2} \left(\frac{-x^3 + 1}{2x^2 + 2x - 12} \right) = \pm\infty$

Ambas discontinuidades no evitables de salto infinito

c) Asíntotas.- Por el apartado b) hay dos verticales $x = -3$, $x = 2$

Horizontales.- Como $\lim_{x \rightarrow \infty} f(x) = \lim_{x \rightarrow \infty} \left(\frac{-x^3 + 1}{2x^2 + 2x - 12} \right) = \pm\infty$, no tiene

Oblicuas.- $m = \lim_{x \rightarrow \infty} \frac{f(x)}{x} = \lim_{x \rightarrow \infty} \frac{-x^3 + 1}{2x^2 + 2x - 12} = \lim_{x \rightarrow \infty} \left(\frac{-x^3 + 1}{2x^3 + 2x^2 - 12x} \right) = -\frac{1}{2}$

$n = \lim_{x \rightarrow \infty} \left(f(x) - \frac{x}{2} \right) = \lim_{x \rightarrow \infty} \left(\frac{-x^3 + 1}{2x^2 + 2x - 12} - \frac{x}{2} \right) = \lim_{x \rightarrow \infty} \left(\frac{x^2 - 6x + 1}{2x^2 + 2x - 12} \right) = \frac{1}{2}$, luego asíntota oblicua $y = \frac{1-x}{2}$

42) Recordando que $|x| = \begin{cases} -x & \text{si } x < 0 \\ x & \text{si } x \geq 0 \end{cases}$, $\int_{-1}^1 (|x| + x + 1) dx = \int_{-1}^0 (-x + x + 1) dx + \int_0^1 (x + x + 1) dx =$

$$= \int_{-1}^0 dx + \int_0^1 (2x + 1) dx = [x]_{-1}^0 + [x^2 + x]_0^1 = 1 + 2 = 3$$

43) Sea $f(x) = \sqrt{\frac{x^2 - 4}{x^2 - 1}}$

a) Dominio.- $D = \left\{ \frac{x^2 - 4}{x^2 - 1} \geq 0 \mid x \in \mathbb{R} \right\}$, como $\frac{x^2 - 4}{x^2 - 1} = \frac{(x+2)(x-2)}{(x+1)(x-1)}$, se tiene:

	$(-\infty, -2)$	$(-2, -1)$	$(-1, 1)$	$(1, 2)$	$(2, +\infty)$
$x+2$	-	+	+	+	+
$x+1$	-	-	+	+	+
$x-1$	-	-	-	+	+
$x-2$	-	-	-	-	+
$\frac{x^2-4}{x^2-1}$	+	-	+	-	+

luego: $D = (-\infty, -2] \cup (-1, 1) \cup [2, +\infty)$

b) Asíntotas.- Verticales:

En $x = -1$.- $\lim_{x \rightarrow -1} f(x) = \lim_{x \rightarrow -1} \left(\sqrt{\frac{x^2 - 4}{x^2 - 1}} \right) = +\infty$

En $x = 1$.- $\lim_{x \rightarrow 1} f(x) = \lim_{x \rightarrow 1} \left(\sqrt{\frac{x^2 - 4}{x^2 - 1}} \right) = +\infty$

Horizontales.- $\lim_{x \rightarrow \infty} f(x) = \lim_{x \rightarrow \infty} \left(\sqrt{\frac{x^2 - 4}{x^2 - 1}} \right) = \sqrt{\lim_{x \rightarrow \infty} \left(\frac{x^2 - 4}{x^2 - 1} \right)} = \sqrt{1} = 1 \Rightarrow y = 1$

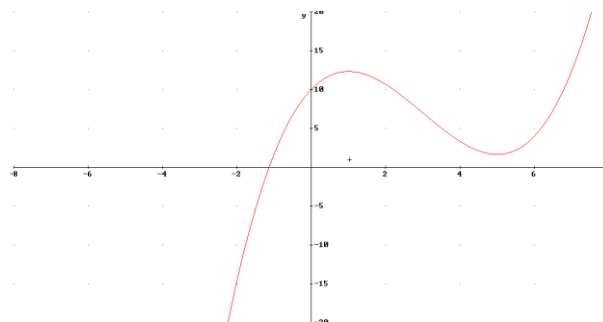
44) $f(x) = \frac{x^3}{a} - ax^2 + 5x + 10$. Dominio \mathbb{R} (es un polinomio)

a) Si tiene un máximo en $x = 1$, $f'(1) = 0$ y $f''(1) < 0$

Derivando: $f'(x) = \frac{3x^2}{a} - 2ax + 5 \Rightarrow f'(1) = 0 \Rightarrow \frac{3}{a} - 2a + 5 = 0 \Rightarrow 3 - 2a^2 + 5a = 0 \Rightarrow \begin{cases} a = -1/2 \\ a = 3 \end{cases}$

b) Si $a = 3 \Rightarrow f(x) = \frac{x^3}{3} - 3x^2 + 5x + 10 \Rightarrow f'(x) = x^2 - 6x + 5 = 0 \Rightarrow \begin{cases} x = 1 \\ x = 5 \end{cases}$

Derivando de nuevo: $f''(x) = 2x - 6 \Rightarrow \begin{cases} f''(1) = -4 < 0 \\ f''(5) = 4 > 0 \end{cases}$. Luego $\left(1, \frac{37}{3}\right)$ máximo y $\left(5, \frac{5}{3}\right)$ mínimo



45) Consideremos $f(x) = x^2 - 2x - 8$; $g(x) = -\frac{x^2}{2} + x + 4$

$$\text{a) } \lim_{x \rightarrow 4} \frac{f(x)}{g(x)} = \lim_{x \rightarrow 4} \frac{x^2 - 2x - 8}{-\frac{x^2}{2} + x + 4} = \frac{0}{0} = \lim_{x \rightarrow 4} \frac{x^2 - 2x - 8}{\frac{-x^2 + 2x + 8}{2}} = \lim_{x \rightarrow 4} \frac{2(x^2 - 2x - 8)}{-x^2 + 2x + 8} = \boxed{-2}$$

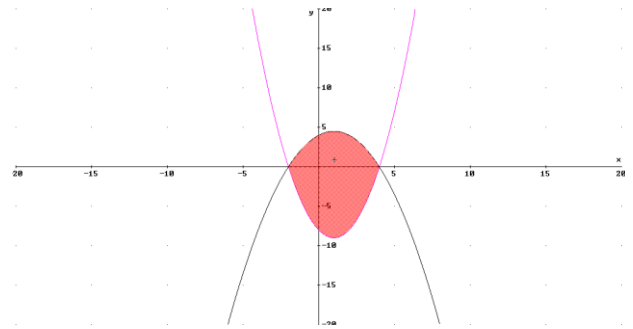
$$\text{b) } \text{Calculamos puntos de corte entre ambas } \left\{ \begin{array}{l} y = x^2 - 2x - 8 \\ y = -\frac{x^2}{2} + x + 4 \end{array} \right\} \Rightarrow$$

$$\Rightarrow x^2 - 2x - 8 = -\frac{x^2}{2} + x + 4 \Rightarrow \begin{cases} x = -2 \\ x = 4 \end{cases}$$

$$A = \int_{-2}^4 \left(-\frac{x^2}{2} + x + 4 - (x^2 - 2x - 8) \right) dx =$$

$$= \int_{-2}^4 \left(\frac{-3x^2 + 6x + 24}{2} \right) dx = \left[\frac{-x^3 + 3x^2 + 24x}{2} \right]_{-2}^4 =$$

$$= 40 - (-14) = \boxed{54}$$



46) Si la función beneficio es $B(x) = \frac{-x^2 + 9x - 16}{x}$. Dominio $R - \{0\}$

$$\text{Derivando: } B'(x) = \frac{16 - x^2}{x^2} = 0 \Rightarrow 16 - x^2 = 0 \Rightarrow x = 4 \text{ (la negativa no vale)}$$

$$\text{Derivando de nuevo: } B''(x) = \frac{-32}{x^3} = 0 \Rightarrow B''(4) = -\frac{1}{2} < 0 \Rightarrow \boxed{x = 4}$$

$$\text{Beneficio máximo } B(4) = \boxed{1000\text{€}}$$

47) a) Punto de corte de $f(x) = e^{2-x}$ con OX: $\left\{ \begin{array}{l} x = 0 \\ y = e^{2-x} \end{array} \right\} \Rightarrow P(0, e^2)$

$$\text{Derivando } f'(x) = -e^{2-x} \Rightarrow f'(0) = -e^2$$

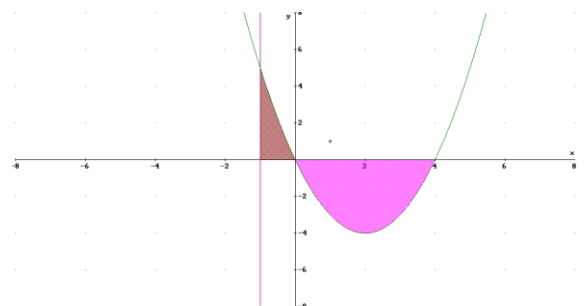
$$\text{Recta tangente en dicho punto: } \boxed{y - e^2 = -e^2 x}$$

b) Puntos de corte de $f(x) = x^2 - 4x$, con OX:

$$x^2 - 4x = 0 \Rightarrow x(x - 4) = 0 \Rightarrow \begin{cases} x = 0 \\ x = 4 \end{cases}$$

$$A = \int_{-1}^0 (x^2 - 4x) dx - \int_0^4 (x^2 - 4x) dx =$$

$$= \left[\frac{x^3}{3} - 2x^2 \right]_{-1}^0 - \left[\frac{x^3}{3} - 2x^2 \right]_0^4 = -\left(\frac{-1}{3} - 2 \right) - \left(\frac{64}{3} - 32 \right) = \frac{1}{3} + 2 - \frac{64}{3} + 32 = 34 - \frac{63}{3} = 34 - 21 = \boxed{13}$$



48) Sea la curva $y = \frac{x^3}{x^2 + 1}$. Dominio \mathbb{R} , pues $x^2 + 1 \neq 0$

a) Derivando: $y' = \frac{x^4 + 3x^2}{(x^2 + 1)^2} \Rightarrow y'(1) = 1$, como $y(1) = \frac{1}{2}$, la recta tangente será: $y - \frac{1}{2} = x - 1 \Rightarrow \boxed{2y - 2x + 1 = 0}$

b) Asíntotas.- Verticales.- Por el apartado a) hay no tiene

Horizontales.- Como $\lim_{x \rightarrow \infty} f(x) = \lim_{x \rightarrow \infty} \left(\frac{x^3}{x^2 + 1} \right) = \pm\infty$, no tiene

Oblicuas.- $m = \lim_{x \rightarrow \infty} \frac{f(x)}{x} = \lim_{x \rightarrow \infty} \frac{x^3}{x^2 + 1} = \lim_{x \rightarrow \infty} \left(\frac{x^3}{x^3 + x^2} \right) = 1$. Como la asíntota es $y = mx + n$

$n = \lim_{x \rightarrow \infty} (f(x) - x) = \lim_{x \rightarrow \infty} \left(\frac{x^3}{x^2 + 1} - x \right) = \lim_{x \rightarrow \infty} \left(\frac{-x}{x^2 + 1} \right) = 0$, luego asíntota oblicua $\boxed{y = x}$

49) a) Asíntotas de $f(x) = \frac{x^2}{x^2 - 9}$

• Verticales.- Como $\lim_{x \rightarrow -3} f(x) = \lim_{x \rightarrow -3} \left(\frac{x^2}{x^2 - 9} \right) = \pm\infty$, y $\lim_{x \rightarrow 3} f(x) = \lim_{x \rightarrow 3} \left(\frac{x^2}{x^2 - 9} \right) = \pm\infty$

Son asíntotas las rectas $\boxed{x = -3}$ y $\boxed{x = 3}$

• Horizontales.- Como $\lim_{x \rightarrow \infty} f(x) = \lim_{x \rightarrow \infty} \left(\frac{x^2}{x^2 - 9} \right) = 1 \Rightarrow \boxed{y = 1}$

b) Extremos relativos.- Derivando: $f'(x) = \frac{-18x}{(x^2 - 9)^2} = 0 \Rightarrow x = 0$.

Estudiando monotonía:

	$(-\infty, 0)$	$(0, +\infty)$
$f'(x)$	+	-
$f(x)$	creciente	decreciente

Luego el $\boxed{(0,0)}$ es un máximo

50) Sea $f(x) = x^3 - 9x$, su dominio es \mathbb{R}

a) Derivando: $f'(x) = 3x^2 - 9 = 0 \Rightarrow x^2 - 3 = 0 \Rightarrow x = \pm\sqrt{3}$

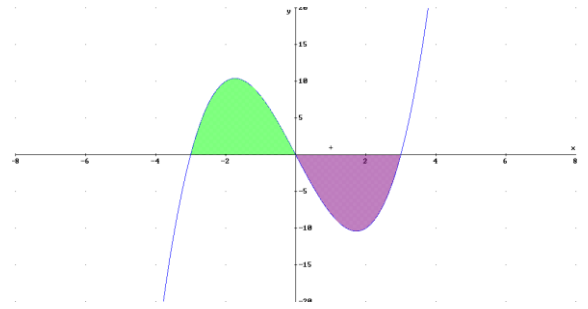
Derivando de nuevo: $f''(x) = 6x \Rightarrow \begin{cases} f''(-\sqrt{3}) = -6\sqrt{3} < 0 \\ f''(\sqrt{3}) = 6\sqrt{3} > 0 \end{cases}$, luego $\boxed{(-\sqrt{3}, 6\sqrt{3})}$ máximo y $\boxed{(\sqrt{3}, -6\sqrt{3})}$ mínimo

b) Si $f(x) = x^3 - 9x = 0 \Rightarrow x(x^2 - 9) = 0 \Rightarrow \begin{cases} x = 0 \\ x = -3 \\ x = 3 \end{cases}$.

Luego la curva corta al eje OX en los puntos $(0,0)$, $(-3,0)$ y $(3,0)$. Así:

$$A = \int_{-3}^0 (x^3 - 9x) dx - \int_0^3 (x^3 - 9x) dx = \text{por simetría} =$$

$$= -2 \int_0^3 (x^3 - 9x) dx = -2 \cdot \left[\frac{x^4}{4} - \frac{9x^2}{2} \right]_0^3 = -2 \cdot \left(\frac{81}{4} - \frac{81}{2} \right) = -2 \cdot \left(-\frac{81}{4} \right) = \boxed{\frac{81}{2}}$$



51) a) Pendiente de la recta tangente a la curva en $(a, f(a))$ es $f'(a)$. Como esta es paralela a la recta $y = 2x$, (que tiene pendiente 2), se tiene que $f'(a) = 2$

Derivando en la curva: $f'(x) = 2x + 8 \Rightarrow f'(a) = 2a + 8$, luego $2a + 8 = 2 \Rightarrow a = -3$. Sustituyendo en la curva: $f(-3) = -15$. Luego el punto pedido es: $\boxed{(-3, -15)}$

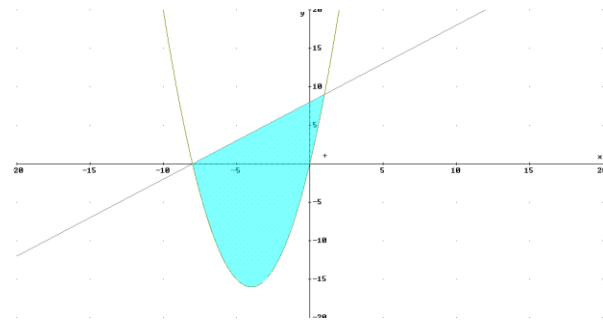
b) Calculamos puntos de corte de la recta y la curva:

$$\begin{cases} y = x^2 + 8x \\ y = x + 8 \end{cases} \Rightarrow x^2 + 8x = x + 8 \Rightarrow x^2 + 7x - 8 = 0 \Rightarrow \begin{cases} x = -8 \\ x = 1 \end{cases},$$

luego se cortan en $(-8,0)$ y $(1,9)$.

$$A = \int_{-8}^1 (x + 8 - x^2 - 8x) dx = \int_{-8}^1 (-x^2 - 7x + 8) dx =$$

$$= \left[-\frac{x^3}{3} - \frac{7x^2}{2} + 8x \right]_{-8}^1 = \left(-\frac{1}{3} - \frac{7}{2} + 8 \right) - \left(\frac{512}{3} - \frac{448}{2} - 64 \right) = \frac{25}{6} - \left(-\frac{352}{3} \right) = \boxed{\frac{243}{2}}$$



52) a) Asíntotas de $f(x) = \frac{x^2 - 16}{x^2 - 4}$

- Verticales.- Como $\lim_{x \rightarrow -2} f(x) = \lim_{x \rightarrow -2} \left(\frac{x^2 - 16}{x^2 - 4} \right) = \pm\infty$, y $\lim_{x \rightarrow 2} f(x) = \lim_{x \rightarrow 2} \left(\frac{x^2 - 16}{x^2 - 4} \right) = \pm\infty$

Son asíntotas las rectas $\boxed{x = -2}$ y $\boxed{x = 2}$

- Horizontales.- Como $\lim_{x \rightarrow \infty} f(x) = \lim_{x \rightarrow \infty} \left(\frac{x^2 - 16}{x^2 - 4} \right) = 1 \Rightarrow \boxed{y = 1}$

b) Descomponiendo en factores $f(x) = \frac{(x-4)(x+4)}{(x-2)(x+2)}$, obtenemos:

	$(-\infty, -4)$	$(-4, -2)$	$(-2, 2)$	$(2, 4)$	$(4, \infty)$
$f(x)$	+	-	+	-	+

Es decir, en $(-\infty, -4) \cup (-2, 2) \cup (4, +\infty)$ es positiva y en $(-4, -2) \cup (2, 4)$ es negativa

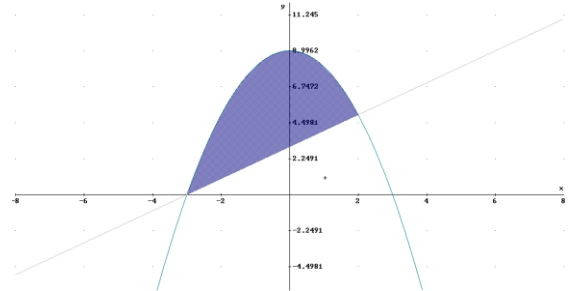
53) Calculamos los puntos de corte de la recta y la curva:

$$\begin{cases} y = 9 - x^2 \\ y = x + 3 \end{cases} \Rightarrow 9 - x^2 = 3 + x \Rightarrow x^2 + x - 6 = 0 \Rightarrow \begin{cases} x = -3 \\ x = 2 \end{cases}$$

luego se cortan en $(-3, 0)$ y $(2, 5)$.

$$A = \int_{-3}^2 (9 - x^2 - x - 3) dx = \int_{-3}^2 (-x^2 - x + 6) dx =$$

$$= \left[-\frac{x^3}{3} - \frac{x^2}{2} + 6x \right]_{-3}^2 = \left(-\frac{8}{3} - \frac{4}{2} + 12 \right) - \left(\frac{27}{3} - \frac{9}{2} - 18 \right) = \frac{22}{3} - \left(-\frac{27}{2} \right) = \frac{125}{6}$$



54) a) Asíntotas de $f(x) = \frac{(x-3)^2}{x+3}$

- Verticales.- Como $\lim_{x \rightarrow -3} f(x) = \lim_{x \rightarrow -3} \left(\frac{(x-3)^2}{x+3} \right) = \pm\infty$, es asíntota la recta $x = -3$
- Horizontales.- No tiene pues $\lim_{x \rightarrow \infty} f(x) = \lim_{x \rightarrow \infty} \left(\frac{(x-3)^2}{x+3} \right) = +\infty$
- Oblicuas.- $m = \lim_{x \rightarrow \infty} \frac{f(x)}{x} = \lim_{x \rightarrow \infty} \frac{(x-3)^2}{x(x+3)} = \lim_{x \rightarrow \infty} \left(\frac{(x-3)^2}{x^2 + 3x} \right) = 1$. Como la asíntota es $y = mx + n$

$$n = \lim_{x \rightarrow \infty} (f(x) - mx) = \lim_{x \rightarrow \infty} \left(\frac{(x-3)^2}{x+3} - x \right) = \lim_{x \rightarrow \infty} \left(\frac{-9x+9}{x+3} \right) = -9, \text{ luego asíntota oblicua } y = x - 9$$

b) Crecimiento y extremos.- Derivando e igualando a cero: $f'(x) = \frac{x^2 + 6x - 27}{(x+3)^2} = 0 \Rightarrow \begin{cases} x = -9 \\ x = 3 \end{cases}$

	$(-\infty, -9)$	$(-9, 3)$	$(3, \infty)$
$f'(x)$	+	-	+
$f(x)$	creciente ↗	decreciente ↘	creciente ↗

Luego $(-9, -24)$ máximo y $(3, 0)$ mínimo

55) Sean las funciones $f(x) = \frac{5}{4}x^2$, $g(x) = \frac{1}{2}(5x + 20)$, $h(x) = \frac{1}{2}(-5x + 20)$

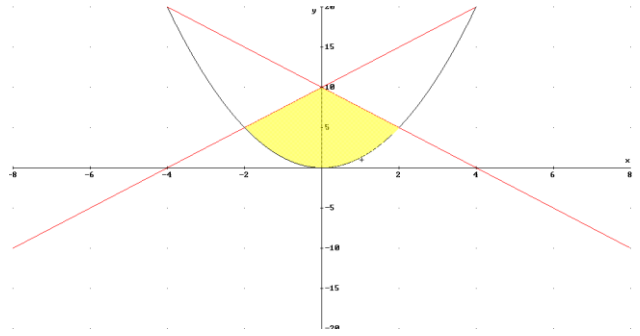
Hallamos el punto de corte entre ellas:

$$\left\{ \begin{array}{l} f(x) = \frac{5}{4}x^2 \\ g(x) = \frac{1}{2}(5x + 20) \end{array} \right\} \Rightarrow \left\{ \begin{array}{l} (4, 20) \\ (-2, 5) \end{array} \right\}; \quad \left\{ \begin{array}{l} f(x) = \frac{5}{4}x^2 \\ h(x) = \frac{1}{2}(-5x + 20) \end{array} \right\} \Rightarrow \left\{ \begin{array}{l} (-4, 20) \\ (2, 5) \end{array} \right\}; \quad \left\{ \begin{array}{l} h(x) = \frac{1}{2}(-5x + 20) \\ g(x) = \frac{1}{2}(5x + 20) \end{array} \right\} \Rightarrow (0, 0)$$

El recinto que delimitan es el de la derecha

Por simetría del dibujo:

$$\begin{aligned} A &= 2 \int_0^2 (h(x) - f(x)) dx = \\ &= 2 \int_0^2 \left(-\frac{5(x^2 + 2x - 8)}{4} \right) dx = \\ &= 2 \left[-\frac{5x^3 - 15x^2 + 12x}{12} \right]_0^2 = 2 \cdot \frac{35}{3} = \frac{70}{3} \end{aligned}$$



56) a) Dominio de $f(x) = \frac{x^2 - x}{x^2 - 3x + 2}$. Igualando el denominador a cero: $x^2 - 3x + 2 = 0 \Rightarrow \begin{cases} x = 1 \\ x = 2 \end{cases}$, luego

$$D = R - \{1, 2\}$$

b) Continuidad.- En $x = 1$, $f(1)$ no existe.

$$\lim_{x \rightarrow 1} f(x) = \lim_{x \rightarrow 1} \left(\frac{x^2 - x}{x^2 - 3x + 2} \right) = \frac{0}{0} = \lim_{x \rightarrow 1} \left(\frac{x(x-1)}{(x-1)(x-2)} \right) = \lim_{x \rightarrow 1} \left(\frac{x}{x-2} \right) = -1, \text{ luego } \underline{\text{discontinuidad evitable}}$$

$$\text{En } x = 2, \lim_{x \rightarrow 2} f(x) = \lim_{x \rightarrow 2} \left(\frac{x^2 - x}{x^2 - 3x + 2} \right) = \frac{2}{0} = \pm\infty, \text{ luego } \underline{\text{discontinuidad no evitable de salto infinito}}$$

c) Asíntotas.- Verticales.- Por el apartado anterior lo es $x = 2$

$$\underline{\text{Horizontales}}.- \lim_{x \rightarrow \infty} f(x) = \lim_{x \rightarrow \infty} \left(\frac{x^2 - x}{x^2 - 3x + 2} \right) = 1 \Rightarrow y = 1$$

57) Sea $f(x) = ax^3 + bx^2 + c$

a) Si pasa por $(0, 0) \Rightarrow f(0) = 0 \Rightarrow c = 0$

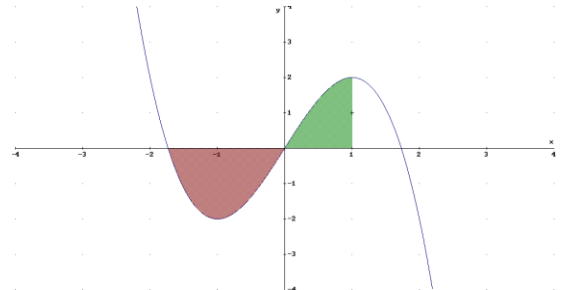
$$\text{Derivando: } f'(x) = 3ax^2 + 2bx, \text{ como } (1, 2) \text{ es mínimo: } f'(1) = 0 \Rightarrow 3a + 2b = 0$$

Como la curva pasa por $(1, 2) f(1) = 2 \Rightarrow a + b = 2$, teniendo en cuenta la ecuación anterior se obtiene el

$$\text{sistema: } \begin{cases} 3a + 2b = 0 \\ a + b = 2 \end{cases} \Rightarrow a = -4 \text{ y } b = 6$$

b) Sea $f(x) = -x^3 + 3x$, calculamos corte con eje OX: $-x^3 + 3x = 0 \Rightarrow x(-x^2 + 3) = 0 \Rightarrow \begin{cases} x = 0 \\ x = -\sqrt{3} \\ x = \sqrt{3} \end{cases}$

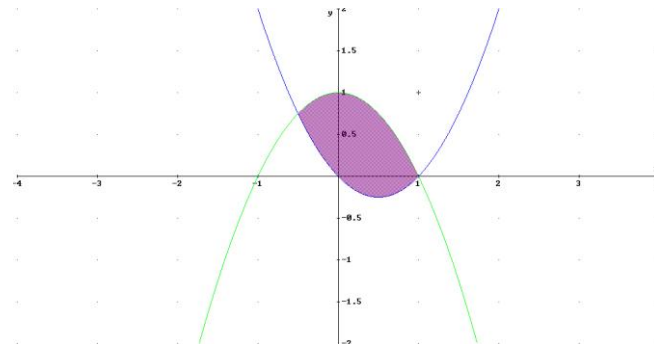
$$\begin{aligned} A &= -\int_{-\sqrt{3}}^0 (-x^3 + 3x) dx + \int_0^{\sqrt{3}} (-x^3 + 3x) dx = \\ &= -\left[-\frac{x^4}{4} + \frac{3x^2}{2}\right]_{-\sqrt{3}}^0 + \left[-\frac{x^4}{4} + \frac{3x^2}{2}\right]_0^{\sqrt{3}} = \\ &= -\left(-\frac{9}{4}\right) + \frac{5}{4} = \frac{14}{4} = \frac{7}{2} \end{aligned}$$



58) Calculamos los puntos de corte entre las dos curvas:

$$\begin{cases} y = x^2 - x \\ y = 1 - x^2 \end{cases} \Rightarrow x^2 - x = 1 - x^2 \Rightarrow 2x^2 - x - 1 = 0 \Rightarrow \begin{cases} x = -1/2 \\ x = 1 \end{cases}, \text{ luego se cortan en } (1,0) \text{ y } \left(-\frac{1}{2}, \frac{3}{4}\right).$$

$$A = \int_{-1/2}^1 (1 - x^2 - x^2 + x) dx = \int_{-1/2}^1 (1 - 2x^2 + x) dx = \left[x - \frac{2x^3}{3} + \frac{x^2}{2}\right]_{-1/2}^1 = \frac{5}{6} - \left(-\frac{7}{24}\right) = \frac{9}{8}$$



59) a) Asíntotas de $f(x) = \frac{x^2 + x + 2}{x}$, $x \neq 0$

- Verticales. - Como $\lim_{x \rightarrow 0} f(x) = \lim_{x \rightarrow 0} \left(\frac{x^2 + x + 2}{x}\right) = \frac{2}{0} = \pm\infty$, es asíntota la recta $x = 0$ (eje OY)
- Horizontales. - No tiene pues $\lim_{x \rightarrow \infty} f(x) = \lim_{x \rightarrow \infty} \left(\frac{x^2 + x + 2}{x}\right) = +\infty$

- Oblicuas.- $m = \lim_{x \rightarrow \infty} \frac{f(x)}{x} = \lim_{x \rightarrow \infty} \frac{x^2 + x + 2}{x} = \lim_{x \rightarrow \infty} \left(\frac{x^2 + x + 2}{x^2} \right) = 1$. Como la asíntota es $y = mx + n$

$$n = \lim_{x \rightarrow \infty} (f(x) - x) = \lim_{x \rightarrow \infty} \left(\frac{x^2 + x + 2}{x} - x \right) = \lim_{x \rightarrow \infty} \left(\frac{x + 2}{x} \right) = 1, \text{ luego asíntota oblicua } \boxed{y = x + 1}$$

- b) Crecimiento y extremos.- Derivando e igualando a cero: $f'(x) = \frac{x^2 - 2}{x^2} = 0 \Rightarrow x = \pm\sqrt{2}$

	$(-\infty, -\sqrt{2})$	$(-\sqrt{2}, \sqrt{2})$	$(\sqrt{2}, \infty)$
$f'(x)$	+	-	+
$f(x)$	creciente ↗	decreciente ↘	creciente ↗

Luego crece en $\boxed{(-\infty, -\sqrt{2}) \cup (\sqrt{2}, +\infty)}$ y decrece en $\boxed{(-\sqrt{2}, 0) \cup (0, \sqrt{2})}$

Además en $\boxed{x = -\sqrt{2}}$ es máximo y en $\boxed{x = \sqrt{2}}$ un mínimo

$$\begin{aligned} \text{c) } \int_1^2 f(x) dx &= \int_1^2 \frac{x^2 + x + 2}{x} dx = \int_1^2 \left(x + 1 + \frac{2}{x} \right) dx = \left[\frac{x^2}{2} + x + 2 \ln x \right]_1^2 \\ &= \boxed{\frac{5}{2} + 2 \ln 2} \end{aligned}$$

60) Sea x = longitud base e y = altura caja

Sabemos el volumen de la caja: $V = 500 \Rightarrow x^2 y = 500 \Rightarrow y = \frac{500}{x^2}$ (*)

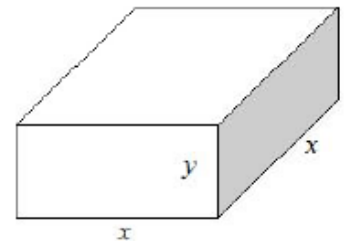
Debemos minimizar la superficie total de la caja: $S = x^2 + 4xy$

Sustituyendo (*): $S(x) = x^2 + 4x \cdot \frac{500}{x^2} = x^2 + \frac{2000}{x}$.

Derivando e igualando a cero: $S'(x) = 2x - \frac{2000}{x^2} = 0 \Rightarrow 2x^3 = 2000 \Rightarrow x = 10$

Derivando de nuevo: $S''(x) = 2 + \frac{4000}{x^3} \Rightarrow S''(10) = 6 > 0$, luego se trata de un mínimo

Calculando el valor de $y = \frac{500}{x^2} = \frac{500}{100} = 5$. Luego dimensiones: $\boxed{10 \text{ dm de base}}$ y $\boxed{5 \text{ dm de altura}}$



61) a) Asíntotas de $f(x) = \frac{x^2 + 2}{x^2 - 4}$

- Verticales.- Como $\lim_{x \rightarrow -2} f(x) = \lim_{x \rightarrow -2} \left(\frac{x^2 + 2}{x^2 - 4} \right) = \frac{6}{0} = \pm\infty$, $\lim_{x \rightarrow 2} f(x) = \lim_{x \rightarrow 2} \left(\frac{x^2 + 2}{x^2 - 4} \right) = \frac{6}{0} = \pm\infty$

Son asíntotas las rectas: $x = -2$ y $x = 2$

- Horizontales.- $\lim_{x \rightarrow \infty} f(x) = \lim_{x \rightarrow \infty} \left(\frac{x^2 + 2}{x^2 - 4} \right) = 1 \Rightarrow y = 1$

- Oblicuas.- No tiene, pues tiene horizontales

- b) Crecimiento y extremos.- Derivando e igualando a cero: $f'(x) = \frac{-12x}{(x^2 - 4)^2} = 0 \Rightarrow x = 0$

	$(-\infty, 0)$	$(0, \infty)$
$f'(x)$	+	-
$f(x)$	creciente ↗	decreciente ↘

En $(-\infty, -2) \cup (-2, 0)$ es creciente, y en $(0, 2) \cup (2, +\infty)$ decrece. Además en $(0, \frac{1}{2})$ hay un máximo

c) $\int_3^5 (x^2 - 4) f(x) dx = \int_3^5 (x^2 - 4) \cdot \frac{x^2 + 2}{x^2 - 4} dx = \int_3^5 (x^2 + 2) dx = \left[\frac{x^3}{3} + 2x \right]_3^5 = \left(\frac{125}{3} + 10 \right) - \left(\frac{27}{3} + 6 \right) = \frac{110}{3}$

62) El dominio de $f(x) = (x^2 - 1)^2$ es R

- a) Extremos relativos.- Derivando e igualando a cero: $f'(x) = 2(x^2 - 1)2x = 4x(x^2 - 1) = 0 \Rightarrow \begin{cases} x = 0 \\ x = -1 \\ x = 1 \end{cases}$

	$(-\infty, -1)$	$(-1, 0)$	$(0, 1)$	$(1, \infty)$
$f'(x)$	-	+	-	+
$f(x)$	Decreciente	Creciente	Decreciente	Creciente

Luego $(-1, 0)$ y $(1, 0)$ mínimos

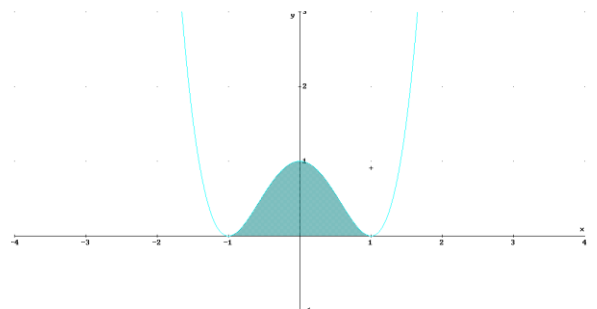
Y $(0, 1)$ es máximo

- b) Recta tangente en $x = 3$. Por a) $f'(x) = 4x(x^2 - 1) \Rightarrow f'(3) = 96$, como $f(3) = 64$, la recta tangente será:
 $y - 64 = 96(x - 3) \Rightarrow 96x - y - 224 = 0$

- c) La curva corta al eje OX en los puntos $(-1, 0)$ y $(1, 0)$

$$A = \int_{-1}^1 (x^2 - 1)^2 dx = \text{por simetría del recinto} =$$

$$= 2 \int_0^1 (x^2 - 1)^2 dx = 2 \int_0^1 (x^4 - 2x^2 + 1) dx =$$



$$= 2 \cdot \left[\frac{x^5}{5} - \frac{2x^3}{3} + x \right]_0^1 = 2 \cdot \left(\frac{1}{5} - \frac{2}{3} + 1 \right) = 2 \cdot \frac{8}{15} = \frac{16}{15}$$

63) a) Sea la función: $f(x) = \frac{2x-1}{x^2-x-a}$. Asíntotas verticales: $x^2 - x - a = 0 \Rightarrow x = \frac{1 \pm \sqrt{1+4a}}{2}$

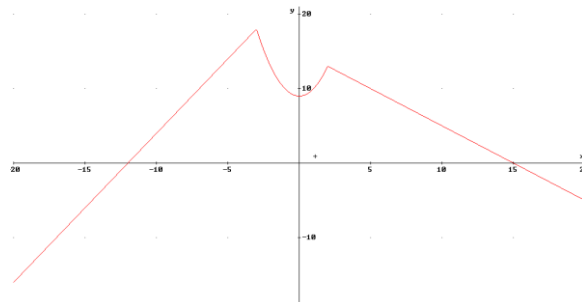
- **Caso 1.-** Si $1+4a > 0 \Rightarrow a > -\frac{1}{4}$ existen dos asíntotas verticales
- **Caso 2.-** Si $1+4a = 0 \Rightarrow a = -\frac{1}{4}$ existe una asíntota vertical
- **Caso 3.-** Si $1+4a < 0 \Rightarrow a < -\frac{1}{4}$ no existen asíntotas verticales

b) Sea $a = -1 \Rightarrow f(x) = \frac{2x-1}{x^2-x+1}$. Si $\int_0^b f(x) dx = 0 \Rightarrow \int_0^b \left(\frac{2x-1}{x^2-x+1} \right) dx = 0 \Rightarrow [\ln(x^2-x+1)]_0^b = 0 \Rightarrow$

$$\Rightarrow \ln(b^2 - b + 1) - \ln 1 = 0 \Rightarrow \ln(b^2 - b + 1) = 0 \Rightarrow b^2 - b + 1 = 1 \Rightarrow b^2 - b = 0 \Rightarrow b(b-1) = 0 \Rightarrow \begin{cases} b=0 \\ b=1 \end{cases}$$

64) Consideremos $f(x) = \begin{cases} 2x+24 & \text{si } x \leq -3 \\ x^2+9 & \text{si } -3 < x \leq 2 \\ -x+15 & \text{si } x > 2 \end{cases}$

a) Representación gráfica



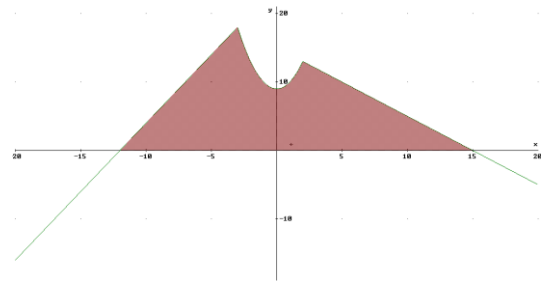
b) Recta tangente en $x=1$. Derivando: $f'(x) = \begin{cases} 2 & \text{si } x < -3 \\ 2x & \text{si } -3 < x < 2 \\ -1 & \text{si } x > 2 \end{cases}$

Así: $f'(1) = 2$, como $f(1) = 10$, la recta tangente será: $y - 10 = 2(x - 1) \Rightarrow 2x - y + 8 = 0$

c) $A = \int_{-12}^{-3} (2x+24) dx + \int_{-3}^2 (x^2+9) dx + \int_2^{15} (-x+15) dx =$

$$= [x^2 + 24x]_{-12}^{-3} + \left[\frac{x^3}{3} + 9x \right]_{-3}^2 + \left[-\frac{x^2}{2} + 15x \right]_2^{15} =$$

$$= 81 + \frac{170}{3} + \frac{169}{2} = \boxed{\frac{1333}{6}}$$



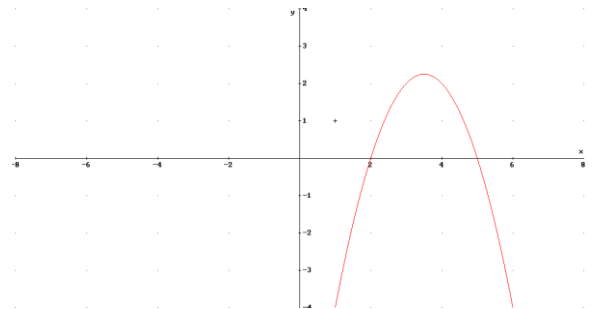
65) Sea $B(x) = -x^2 + 7x - 10$ función beneficio

a) Representación gráfica. Se trata de una parábola

Corte con OX. - $B(x) = -x^2 + 7x - 10 = 0 \Rightarrow \begin{cases} x = 2 \\ x = 5 \end{cases}$

Luego (2,0) y (5,0)

Corte con OY. - (0,10)



b) Derivando e igualando a cero : $B'(x) = -2x + 7 = 0 \Rightarrow x = \frac{7}{2}$. Derivando de nuevo: $B''(x) = -2 < 0$

Luego $x = \frac{7}{2}$ HI es máximo. El beneficio para esta cantidad es $B\left(\frac{7}{2}\right) = \frac{9}{4}$ miles de euros, es decir:

2250 euros.

c) El beneficio es positivo entre 2 y 5, luego para no incurrir en pérdidas la producción tiene que estar entre

2 y 5 HI

66) Vértices del rectángulo $BOAC$ son $B(0, b)$, $O(0, 0)$, $A(a, 0)$, $C(a, b)$, $a > 0$, $b > 0$,

a) Si $a = 3$, como $C(a, b)$ está en $y = -x^2 + 12$, se tiene que $b = -a^2 + 12 = -9 + 12 = 3$.

Luego $C(3,3)$, $B(0,3)$, $A(3,0)$ y $O(0,0)$.

Al ser un rectángulo de lado 3 (es un cuadrado) su área será: $A = 3^2 = 9$

b) En general, $Area(R) = ab$, como b está en la parábola $y = -x^2 + 12$, $b = -a^2 + 12$, sustituyendo:

$Area(a) = a \cdot (-a^2 + 12) = -a^3 + 12a$. Derivando: $A'(a) = -3a^2 + 12 = 0 \Rightarrow a = \pm 2$, como $a > 0$, $a = 2$.

Derivando de nuevo: $A''(a) = -6a \Rightarrow A''(2) = -12 < 0$, luego se trata de un máximo. Para este valor $b = 8$

Así, los vértices serán: $O(0,0)$, $A(2,0)$, $B(0,8)$, $C(2,8)$

c) Área máxima sería $Area(R) = 2 \cdot 8 = 16$

67) Sea la función: $f(x) = \begin{cases} x+4 & \text{si } x < 0 \\ 4-x^2 & \text{si } 0 \leq x \leq 2 \\ ax+b & \text{si } x > 2 \end{cases}$

a) Continuidad y derivabilidad en $x=2$

• Continuidad.- $\lim_{x \rightarrow 2^-} f(x) = \lim_{x \rightarrow 2^-} (4-x^2) = 0$; $\lim_{x \rightarrow 2^+} f(x) = \lim_{x \rightarrow 2^+} (ax+b) = 2a+b$

Igualando: $2a+b=0$ (*)

• Derivabilidad.- $f'(x) = \begin{cases} 1 & \text{si } x < 0 \\ -2x & \text{si } 0 < x < 2 \\ a & \text{si } x > 2 \end{cases}$ Así: $f'(2^-) = -4$ y $f'(2^+) = a$. Igualando: $a = -4$

Sustituyendo en la ecuación: $-8+b=0 \Rightarrow b=8$

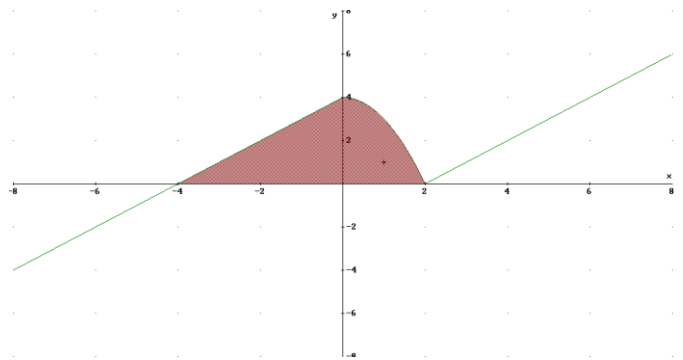
b) Recta tangente en $x=1$.- $y - f(1) = f'(1)(x-1)$. Como $f'(1) = -2$ y $f(1) = 3$, se tendrá:

$y - 3 = -2(x-1) \Rightarrow 2x + y - 5 = 0$

c) Si $a=1, b=-2$, $f(x) = \begin{cases} x+4 & \text{si } x < 0 \\ 4-x^2 & \text{si } 0 \leq x \leq 2 \\ x-2 & \text{si } x > 2 \end{cases}$

$A = \int_{-4}^0 (x+4) dx + \int_0^2 (4-x^2) dx =$

$= \left[\frac{x^2}{2} + 4x \right]_{-4}^0 + \left[4x - \frac{x^3}{3} \right]_0^2 = -\left(\frac{16}{2} - 16\right) + \left(8 - \frac{8}{3}\right) = -(-8) + \frac{16}{3} = \frac{40}{3}$



68) Sea $f(x) = \frac{x^2}{x-1}$. Dominio $R - \{1\}$

a) Asíntotas.

• Verticales.- Como $\lim_{x \rightarrow 1} f(x) = \lim_{x \rightarrow 1} \left(\frac{x^2}{x-1} \right) = \frac{1}{0} = \pm\infty$, es asíntota la recta: $x=1$

• Horizontales.- $\lim_{x \rightarrow \infty} f(x) = \lim_{x \rightarrow \infty} \left(\frac{x^2}{x-1} \right) = \pm\infty$. No tiene

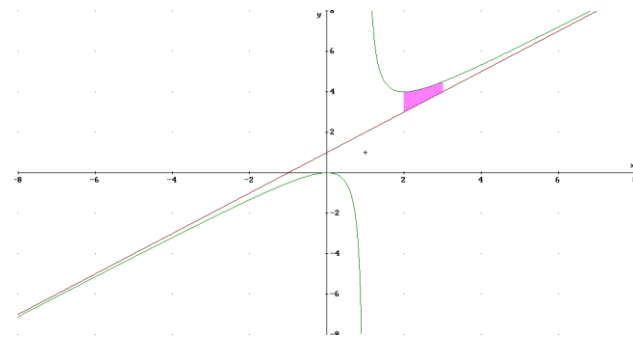
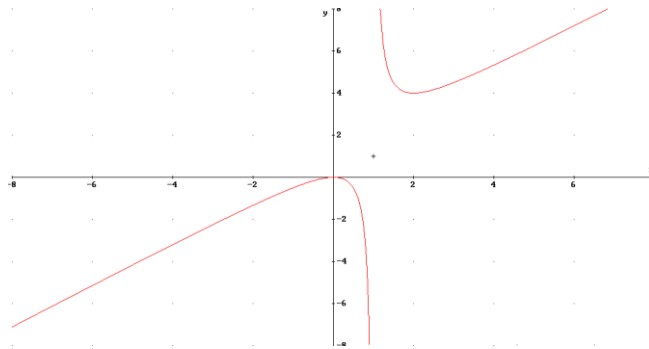
• Oblicuas.- $m = \lim_{x \rightarrow \infty} \frac{f(x)}{x} = \lim_{x \rightarrow \infty} \frac{\frac{x^2}{x-1}}{x} = \lim_{x \rightarrow \infty} \left(\frac{x^2}{x^2-x} \right) = 1$. Como la asíntota es $y = mx + n$

$n = \lim_{x \rightarrow \infty} (f(x) - mx) = \lim_{x \rightarrow \infty} \left(\frac{x^2}{x-1} - x \right) = \lim_{x \rightarrow \infty} \left(\frac{x}{x-1} \right) = 1$, luego asíntota oblicua $y = x + 1$

b) Máximos y mínimos.- Derivando e igualando a cero $f'(x) = \frac{x^2 - 2x}{(x-1)^2} = 0 \Rightarrow x(x-2) = 0 \Rightarrow \begin{cases} x=0 \\ x=2 \end{cases}$

	$(-\infty, 0)$	$(0, 2)$	$(2, \infty)$
$f'(x)$	+	-	+
$f(x)$	Creciente	Decreciente	Creciente

Luego $(0,0)$ es máximo y $(2,4)$ mínimo



c) La recta $y = x + 1$ y la curva no se cortan (es una asíntota)

$$A = \int_2^3 \left(\frac{x^2}{x-1} - (x+1) \right) dx = \int_2^3 \left(\frac{1}{x-1} \right) dx$$

$$= [\ln(x-1)]_2^3 = \ln 2 - \ln 1 = \ln 2$$

69) Sea $f(x) = \begin{cases} -x^2 - x + a & \text{si } x \leq 1 \\ \frac{3}{bx} & \text{si } x > 1 \end{cases}$

a) Continuidad.- En $x=1$; $\lim_{x \rightarrow 1^-} f(x) = \lim_{x \rightarrow 1^-} (-x^2 - x + a) = -2 + a$; $\lim_{x \rightarrow 1^+} f(x) = \lim_{x \rightarrow 1^+} \left(\frac{3}{bx} \right) = \frac{3}{b}$

Igualando: $-2 + a = \frac{3}{b}$ (*)

Derivabilidad.- $f'(x) = \begin{cases} -2x - 1 & \text{si } x < 1 \\ -\frac{3}{bx^2} & \text{si } x > 1 \end{cases}$ Así: $f'(1^-) = -3$ y $f'(1^+) = -\frac{3}{b}$. Igualando: $-3 = -\frac{3}{b} \Rightarrow b = 1$

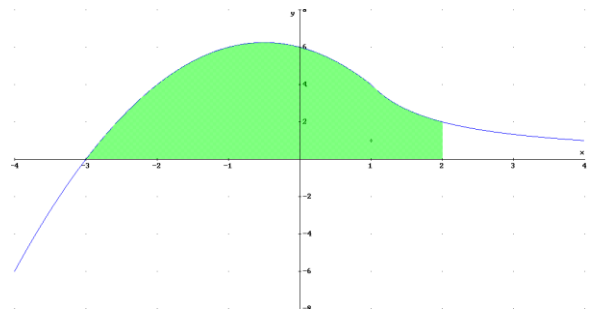
Sustituyendo en (*): $-2 + a = 3 \Rightarrow a = 5$

b) Si $a = 6, b = 3/4, f(x) = \begin{cases} -x^2 - x + 6 & \text{si } x \leq 1 \\ \frac{4}{x} & \text{si } x > 1 \end{cases}$

Corte con ejes: Con OX $\begin{cases} -x^2 - x + 6 = 0 \\ 4/x \neq 0 \end{cases} \Rightarrow x = -3, x = 2$ (no es válida, pues $x \leq 1$), luego $(-3, 0)$

Con OY.- Si $x = 0 \Rightarrow y = 6$, luego $(0, 6)$

c) $A = \int_{-3}^1 (-x^2 - x + 6) dx + \int_1^2 \left(\frac{4}{x}\right) dx =$
 $= \left[-\frac{x^3}{3} - \frac{x^2}{2} + 6x \right]_{-3}^1 + [4 \ln(x)]_1^2 =$
 $= \frac{56}{3} + 4 \ln 2$



70) Sea $x =$ longitudud lado horizontal ; $y =$ longitudud lado vertical. Sabemos que área es 2 m^2 , luego $xy = 2$

Coste = $25x + 50y$. Despejando del área $y = \frac{2}{x}$, sustituyendo: $C(x) = 25x + 50 \cdot \frac{2}{x} = 25x + \frac{100}{x}$

Derivando e igualando a cero : $C'(x) = 25 - \frac{100}{x^2} = 0 \Rightarrow x^2 = 4 \Rightarrow x = 2$ (no vale la solución negativa)

Derivando de nuevo: $C''(x) = \frac{200}{x^3} \Rightarrow C''(2) = \frac{200}{8} > 0$, luego $x = 2$ mínimo.

Sustituyendo $y = 1$. Con lo que sol: 2 m de largo y 1 m de ancho

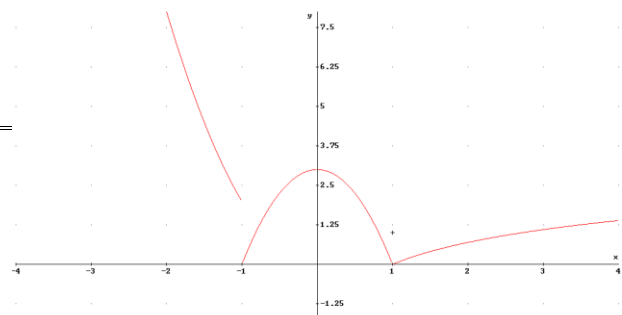
71) Sea $f(x) = \begin{cases} 2x^2 - a & \text{si } x \leq -1 \\ -3x^2 + b & \text{si } -1 < x < 1 \\ \log x + a & \text{si } x \geq 1 \end{cases}$

a) Continuidad.- En $x = -1$; $\lim_{x \rightarrow -1^-} f(x) = \lim_{x \rightarrow -1} (2x^2 - a) = 2 - a$; $\lim_{x \rightarrow -1^+} f(x) = \lim_{x \rightarrow -1} (-3x^2 + b) = -3 + b$

Igualando: $2 - a = -3 + b \Rightarrow a + b = 5$

En $x = 1$; $\lim_{x \rightarrow 1^-} f(x) = \lim_{x \rightarrow 1} (-3x^2 + b) = -3 + b$; $\lim_{x \rightarrow 1^+} f(x) = \lim_{x \rightarrow 1} (\log x + a) = a$. Igualando: $a = -3 + b$

Se forma así el sistema: $\begin{cases} a + b = 5 \\ a = -3 + b \end{cases} \Rightarrow a = 1, b = 4$



b) Sea $a=0, b=3$. $f(x) = \begin{cases} 2x^2 & \text{si } x \leq -1 \\ -3x^2 + 3 & \text{si } -1 < x < 1 \\ \log x & \text{si } x \geq 1 \end{cases}$

c) Sea $a=0, b=3$.

$$\int_{-1}^1 f(x) dx = \int_{-1}^1 (-3x^2 + 3) dx = \left[-\frac{3x^3}{3} + 3x \right]_{-1}^1 =$$

$$= (-1 + 3) - (1 - 3) = 2 + 2 = \boxed{4}$$

72) Sea $f(x) = x^3 - 3x^2 + 4$ (Su dominio es R)

a) Calculamos punto de inflexión. Derivando: $f'(x) = 3x^2 - 6x \Rightarrow f''(x) = 6x - 6 = 0 \Rightarrow x = 1$

Luego el punto de inflexión es (1,2). La recta tangente en ese punto será:

$$y - 2 = f'(1)(x - 1). \text{ Como } f'(1) = -3, \text{ se tendrá: } y - 2 = -3(x - 1) \Rightarrow \boxed{3x + y - 5 = 0}$$

b) Extremos relativos.- Como $f'(x) = 3x^2 - 6x = 0 \Rightarrow 3x(x - 2) = 0 \Rightarrow \begin{cases} x = 0 \\ x = 2 \end{cases}$

Sustituyendo en la 2ª derivada: $\begin{cases} f''(0) = -6 < 0 \\ f''(2) = 6 > 0 \end{cases}$, luego: $\boxed{(0,4)}$ es máximo y $\boxed{(2,0)}$ mínimo

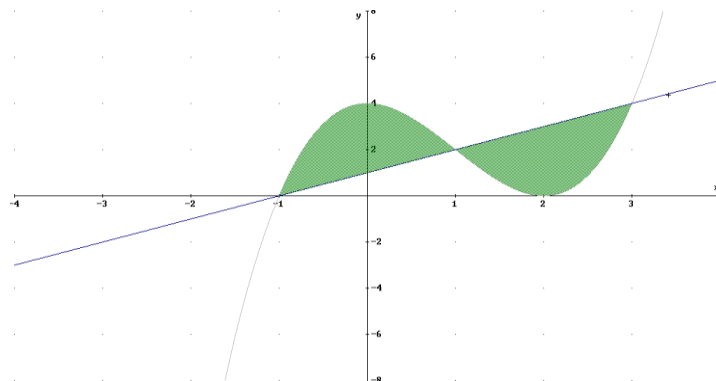
c) Calculamos puntos de corte de $f(x) = x^3 - 3x^2 + 4$ con la recta $y = x + 1$

$$x^3 - 3x^2 + 4 = x + 1 \Rightarrow x^3 - 3x^2 - x + 3 = 0 \Rightarrow \begin{cases} x = \pm 1 \\ x = 3 \end{cases}, \text{ luego } (-1,0), (1,2) \text{ y } (3,4)$$

Area:

$$\int_{-1}^1 (x^3 - 3x^2 + 4 - x - 1) dx + \int_1^3 (x + 1 - x^3 + 3x^2 - 4) dx = \int_{-1}^1 (x^3 - 3x^2 + 3 - x) dx + \int_1^3 (x - x^3 + 3x^2 - 3) dx =$$

$$= \left[\frac{x^4}{4} - x^3 + 3x - \frac{x^2}{2} \right]_{-1}^1 + \left[\frac{x^2}{2} - \frac{x^4}{4} + x^3 - 3x \right]_1^3 = 4 + 4 = \boxed{8}$$



73) Sea $f(x) = \begin{cases} x^2 + 1 & \text{si } x < 0 \\ ax + b & \text{si } 0 \leq x \leq 3 \\ x - 5 & \text{si } x > 3 \end{cases}$

a) Continuidad.- En $x = -1$; $\lim_{x \rightarrow 0^-} f(x) = \lim_{x \rightarrow 0^-} (x^2 + 1) = 1$; $\lim_{x \rightarrow 0^+} f(x) = \lim_{x \rightarrow 0^+} (ax + b) = b$

Igualando: $b = 1$

En $x = 3$; $\lim_{x \rightarrow 3^-} f(x) = \lim_{x \rightarrow 3^-} (ax + b) = 3a + b$; $\lim_{x \rightarrow 3^+} f(x) = \lim_{x \rightarrow 3^+} (x - 5) = -2$. Igualando: $3a + b = -2$

Como $b = 1$, $a = -1$

b) Derivabilidad.- Sustituyendo los valores anteriores $f(x) = \begin{cases} x^2 + 1 & \text{si } x < 0 \\ -x - 2 & \text{si } 0 \leq x \leq 3 \\ x - 5 & \text{si } x > 3 \end{cases}$

Derivando: $f'(x) = \begin{cases} 2x & \text{si } x < 0 \\ -1 & \text{si } 0 < x < 3 \\ 1 & \text{si } x > 3 \end{cases}$. En $x = 3$, $f'(3^-) = -1$ y $f'(3^+) = 1$, luego no existen dichos

valores.

c) Sea $a = 4$, $b = -1$. $f(x) = \begin{cases} x^2 + 1 & \text{si } x < 0 \\ 4x - 1 & \text{si } 0 \leq x \leq 3 \\ x - 5 & \text{si } x > 3 \end{cases}$

$$\int_{-1}^2 f(x) dx = \int_{-1}^0 f(x) dx + \int_0^2 f(x) dx = \int_{-1}^0 (x^2 + 1) dx + \int_0^2 (4x - 1) dx = \left[\frac{x^3}{3} + x \right]_{-1}^0 + [2x^2 - x]_0^2 = -\left(-\frac{1}{3} - 1\right) + (8 - 2) = \frac{4}{3} + 6 = \frac{22}{3}$$

74) Sea $f(x) = \frac{3x}{x^2 - 2}$,

a) Su dominio es $R - \{\pm \sqrt{2}\}$

Asíntotas:

Verticales.- Como $\lim_{x \rightarrow -\sqrt{2}} f(x) = \lim_{x \rightarrow -\sqrt{2}} \left(\frac{3x}{x^2 - 2} \right) = \frac{1}{0} = \pm\infty$, es asíntota la recta: $x = -\sqrt{2}$

$\lim_{x \rightarrow \sqrt{2}} f(x) = \lim_{x \rightarrow \sqrt{2}} \left(\frac{3x}{x^2 - 2} \right) = \frac{1}{0} = \pm\infty$, es asíntota la recta: $x = \sqrt{2}$

Horizontales.- $\lim_{x \rightarrow \infty} f(x) = \lim_{x \rightarrow \infty} \left(\frac{3x}{x^2 - 2} \right) = 0$. Luego $y = 0$

Çortes con los ejes: Con OX: $y = 0 \Rightarrow x = 0$, luego $(0,0)$

Con OY: $x=0 \Rightarrow y=0$, luego (0,0)

b) Recta tangente en $x=1$.- $y - f(1) = f'(1)(x - 1)$.

Derivando: $f'(x) = \frac{-6 - 3x^2}{(x^2 - 2)^2} \Rightarrow f'(1) = -9$. Como $f'(1) = -9$ y $f(1) = -3$, se tendrá:

$$y + 3 = -9(x - 1) \Rightarrow \boxed{9x + y - 6 = 0}$$

$$c) \int \left(\frac{3x}{x^2 - 2} \right) dx = \frac{3}{2} \int \left(\frac{2x}{x^2 - 2} \right) dx = \frac{3}{2} \ln(x^2 - 2) + C$$

$$\text{Así: } \int_2^3 \left(\frac{3x}{x^2 - 2} \right) dx = \left[\frac{3}{2} \ln(x^2 - 2) \right]_2^3 = \left(\frac{3}{2} \ln 7 \right) - \left(\frac{3}{2} \ln 2 \right) = \boxed{\frac{3}{2} (\ln 7 - \ln 2)}$$

75) Sea $f(x) = \begin{cases} \frac{a}{x} & \text{si } x \leq -1 \\ \frac{x^2 - b}{4} & \text{si } x > -1 \end{cases}$

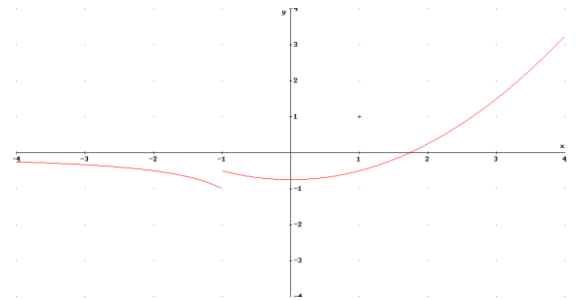
a) Continuidad.- En $x = -1$. $\lim_{x \rightarrow -1^-} f(x) = \lim_{x \rightarrow -1^-} \left(\frac{a}{x} \right) = -a$; $\lim_{x \rightarrow -1^+} f(x) = \lim_{x \rightarrow -1^+} \left(\frac{x^2 - b}{4} \right) = \frac{1 - b}{4}$

Igualando: $-a = \frac{1 - b}{4}$

Derivabilidad.- Derivando: $f'(x) = \begin{cases} -\frac{a}{x^2} & \text{si } x < -1 \\ \frac{x}{2} & \text{si } x > -1 \end{cases}$, luego $f'(-1^-) = -a$; $f'(-1^+) = \frac{1}{2}$

Igualando: $a = \frac{1}{2}$. Sustituyendo en la otra ecuación: $-\frac{1}{2} = \frac{1 - b}{4} \Rightarrow -4 = 2(1 - b) \Rightarrow 1 - b = -2 \Rightarrow \boxed{b = 3}$

b) Sea $a = 1$, $b = 3$, se tiene: $f(x) = \begin{cases} \frac{1}{x} & \text{si } x \leq -1 \\ \frac{x^2 - 3}{4} & \text{si } x > -1 \end{cases}$



c) $\int_0^3 f(x) dx = 6 \Rightarrow \int_0^3 \left(\frac{x^2 - b}{4} \right) dx = 6 \Rightarrow \left[\frac{1}{4} \cdot \frac{x^3}{3} - \frac{bx}{4} \right]_0^3 = 6 \Rightarrow \frac{27}{12} - \frac{3b}{4} = 6 \Rightarrow \frac{9 - 3b}{4} = 6 \Rightarrow$

$$\Rightarrow 9 - 3b = 24 \Rightarrow 3b = -15 \Rightarrow b = -5$$

76) Sea $f(x) = \frac{(x+1)^2}{x^2+1}$, su dominio es \mathbb{R}

a) Asíntotas.- Horizontales: Como $x^2 + 1 \neq 0$, no tiene

Verticales: $\lim_{x \rightarrow \infty} f(x) = \lim_{x \rightarrow \infty} \left(\frac{(x+1)^2}{x^2+1} \right) = 1 \Rightarrow y = 1$

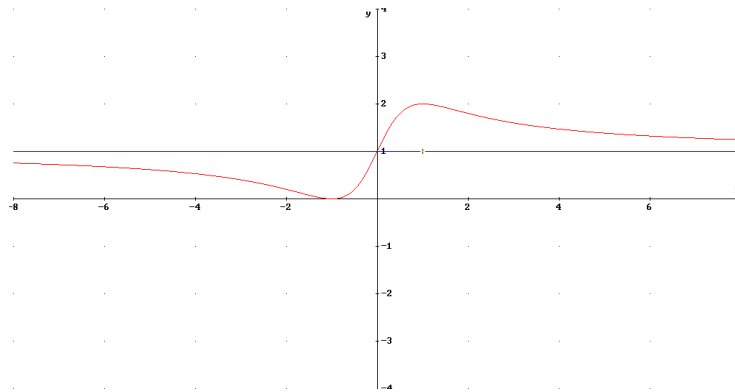
Oblicuas.- No tiene pues tiene horizontales

Extremos.- Derivando: $f'(x) = \frac{2-2x^2}{(x^2+1)} = 0 \Rightarrow x = \pm 1$

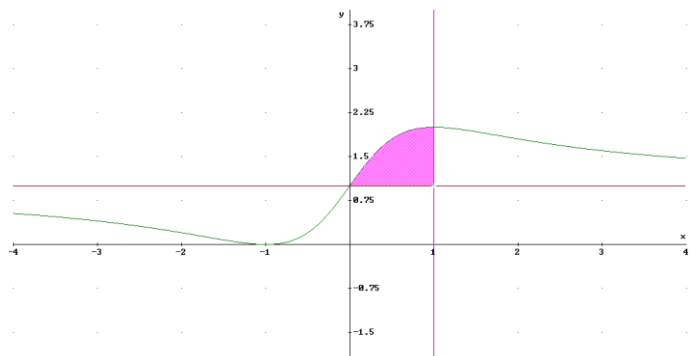
Luego $(-1,0)$ mínimo y $(1,2)$ máximo

	$(-\infty, -1)$	$(-1, 1)$	$(1, \infty)$
$f'(x)$	-	+	-
$f(x)$	decrece ↘	crece ↗	decrece ↘

b) Representación gráfica :



c) $Area = \int_0^1 \left(\frac{(x+1)^2}{x^2+1} - 1 \right) dx =$
 $= \int_0^1 \left(\frac{2x}{x^2+1} \right) dx = [\ln(x^2+1)]_0^1 =$
 $= \ln 2 - \ln 1 = \ln 2$



77) Sea un rectángulo R de lados x e y

a) Supongamos que el perímetro es 12 m. Se tiene que $2x + 2y = 12 \Rightarrow x + y = 6 \Rightarrow y = 6 - x$

Area = $xy \Rightarrow$ sustituyendo: $A(x) = x(6-x) = 6x - x^2$. Derivando: $A'(x) = 6 - 2x = 0 \Rightarrow x = 3$

Derivando de nuevo: $A''(x) = -2 < 0 \Rightarrow x = 3$ máximo. Luego solución: cuadrado de 3 m de lado

b) Si $A(R) = 36 \Rightarrow xy = 36 \Rightarrow y = \frac{36}{x}$. Perímetro: $P = 2x + 2y$, sustituyendo: $P(x) = 2x + \frac{72}{x}$

Derivando: $P'(x) = 2 - \frac{72}{x^2} = 0 \Rightarrow x^2 = 36 \Rightarrow x = 6$. Derivando de nuevo: $P''(x) = \frac{144}{x^3} \Rightarrow$

$\Rightarrow P''(6) = \frac{2}{3}$, luego $x = 6$ es mínimo. Solución: cuadrado de **6 m de lado**

78) Sea $x =$ número de cepas a añadir. La función a maximizar es: $f(x) = (1200 + x)(16 - 0.01x)$

Operando: $f(x) = 19200 + 4x - 0.01x^2$.

Derivando e igualando a cero: $f'(x) = 4 - 0.02x = 0 \Rightarrow x = 200$

Comprobando en la 2ª derivada: $f''(x) = -0.02 < 0 \Rightarrow$ Máximo **200 cepas**

79) $f(x) = \begin{cases} x^2 - 4x + 3 & \text{si } x \leq 1 \\ -x^2 + 4x - 3 & \text{si } x > 1 \end{cases}$

a) Continuidad.- En $x = 1$.

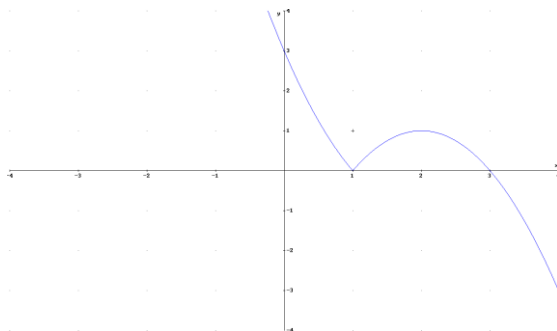
$$\lim_{x \rightarrow 1^-} f(x) = \lim_{x \rightarrow 1^-} (x^2 - 4x + 3) = 0 = \lim_{x \rightarrow 1^+} f(x) = \lim_{x \rightarrow 1^+} (-x^2 + 4x - 3) = 0. \text{ Continua en } \mathbb{R}$$

Derivabilidad.- En $x = 1$.

Derivando: $f'(x) = \begin{cases} 2x - 4 & \text{si } x < 1 \\ -2x + 4 & \text{si } x > 1 \end{cases}$ luego $f'(1^-) = -2$; $f'(1^+) = 2$. Derivadas laterales distintas.

No es derivable en $x = 1$

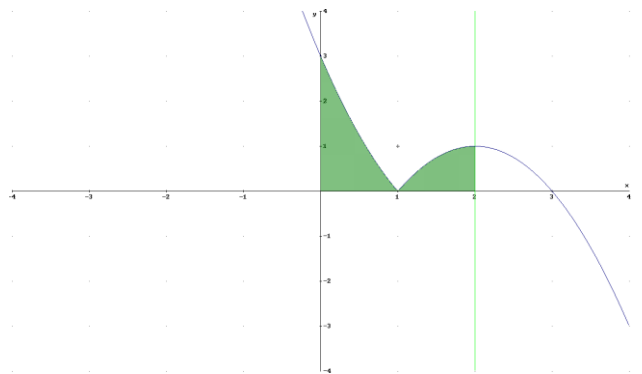
b)



c) $Area = \int_0^1 (x^2 - 4x + 3) dx + \int_1^2 (-x^2 + 4x - 3) dx =$

$$= \left[\frac{x^3}{3} - 2x^2 + 3x \right]_0^1 + \left[-\frac{x^3}{3} + 2x^2 - 3x \right]_1^2 = \left(\frac{1}{3} - 2 + 3 \right) +$$

$$+ \left(-\frac{8}{3} + 8 - 6 \right) - \left(-\frac{1}{3} + 2 - 3 \right) = 1 + \frac{1}{3} + 2 - \frac{8}{3} + \frac{1}{3} + 1 = \mathbf{2}$$



80) Sea la función $f(x) = \frac{x(2x-1)}{x-1}$

a) Asíntotas

• Verticales. - Como $\lim_{x \rightarrow 1} f(x) = \lim_{x \rightarrow 1} \left(\frac{2x^2 - x}{x-1} \right) = \frac{2}{0} = \pm\infty$, es asíntota la recta $x=1$

• Horizontales. - No tiene pues $\lim_{x \rightarrow \infty} f(x) = \lim_{x \rightarrow \infty} \left(\frac{2x^2 - x}{x-1} \right) = +\infty$

• Oblicuas. - $m = \lim_{x \rightarrow \infty} \frac{f(x)}{x} = \lim_{x \rightarrow \infty} \left(\frac{2x^2 - x}{x(x-1)} \right) = 2$. Como la asíntota es $y = mx + n$

$$n = \lim_{x \rightarrow \infty} (f(x) - mx) = \lim_{x \rightarrow \infty} \left(\left(\frac{2x^2 - x}{x-1} \right) - 2x \right) = \lim_{x \rightarrow \infty} \left(\frac{x}{x-1} \right) = 1, \text{ luego asíntota oblicua } y = 2x + 1$$

Extremos relativos

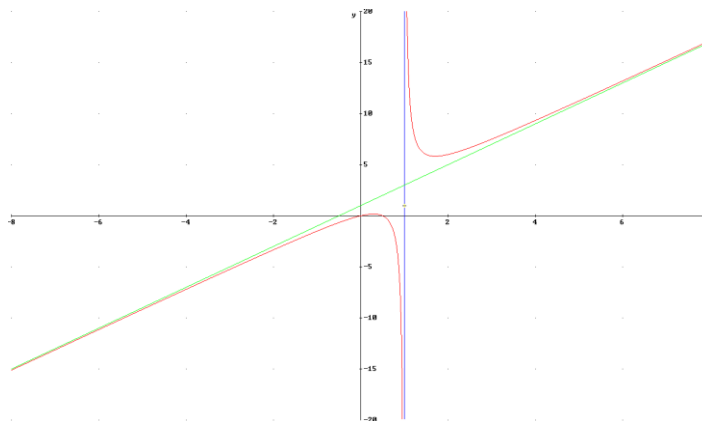
Derivando e igualando a cero $f'(x) = \frac{2x^2 - 4x + 1}{(x-1)^2} = 0 \Rightarrow 2x^2 - 4x + 1 = 0 \Rightarrow x = 1 \pm \frac{\sqrt{2}}{2}$

Derivando de nuevo $f''(x) = \frac{2}{(x-1)^3}$. Evaluando en los puntos críticos:

$$f''\left(1 - \frac{\sqrt{2}}{2}\right) = \frac{2}{\left(1 - \frac{\sqrt{2}}{2} - 1\right)^3} = \frac{2}{\left(-\frac{\sqrt{2}}{2}\right)^3} = -4\sqrt{2} < 0 \Rightarrow \left(1 - \frac{\sqrt{2}}{2}, 3 - 2\sqrt{2}\right) \text{ es máximo relativo}$$

$$f''\left(1 + \frac{\sqrt{2}}{2}\right) = \frac{2}{\left(1 + \frac{\sqrt{2}}{2} - 1\right)^3} = \frac{2}{\left(\frac{\sqrt{2}}{2}\right)^3} = 4\sqrt{2} > 0 \Rightarrow \left(1 + \frac{\sqrt{2}}{2}, 3 + 2\sqrt{2}\right) \text{ es mínimo relativo}$$

b) Representación gráfica



c) Calculamos primero
$$\int \frac{f(x)}{x^2} dx = \int \frac{x(2x-1)}{x^2} dx = \int \frac{2x-1}{x(x-1)} dx = \int \frac{A}{x} dx + \int \frac{B}{x-1} dx$$

Calculando A y B: $2x-1 = A(x-1) + Bx = (A+B)x - A$. Igualando coeficientes: $\begin{cases} -A = -1 \\ A+B = 2 \end{cases} \Rightarrow A=1; B=1$

Sustituyendo en la integral:
$$\int \frac{dx}{x} + \int \frac{dx}{x-1} = \ln(x) + \ln(x-1) + C$$

Así
$$\int_2^5 \frac{f(x)}{x^2} dx = [\ln(x) + \ln(x-1)]_2^5 = (\ln(5) + \ln(4)) - (\ln(2) - \ln(1)) = \ln(5) + \ln(4) - \ln(2) =$$

aplicando propiedades de los logaritmos $= \ln\left(\frac{20}{2}\right) = \ln(10)$

81) Sea la función $f(x) = \begin{cases} ax+b & \text{si } x \leq 1 \\ x^3 - x^2 + 1 & \text{si } x > 1 \end{cases}$

a) Continuidad.- En $x=1$.

$$\lim_{x \rightarrow 1^-} f(x) = \lim_{x \rightarrow 1^-} (ax+b) = a+b = \lim_{x \rightarrow 1^+} f(x) = \lim_{x \rightarrow 1^+} (x^3 - x^2 + 1) = 1 \Rightarrow a+b=1.$$

Derivabilidad.- En $x=1$.

Derivando: $f'(x) = \begin{cases} a & \text{si } x < 1 \\ 3x^2 - 2x & \text{si } x > 1 \end{cases}$ luego $f'(1^-) = a = f'(1^+) = 1 \Rightarrow a=1$

Sustituyendo en la ecuación anterior: $1+b=1 \Rightarrow b=0$

b) Si $a=0$ y $b=1$, $f(x) = \begin{cases} 1 & \text{si } x \leq 1 \\ x^3 - x^2 + 1 & \text{si } x > 1 \end{cases}$

Si la ecuación de la recta tangente en un punto $(x_0, f(x_0))$ es paralela a la recta $y-8x=1$, la pendiente de la recta tangente será 8, es decir: $f'(x_0) = 8$

Derivando $f'(x) = \begin{cases} 0 & \text{si } x < 1 \\ 3x^2 - 2x & \text{si } x > 1 \end{cases}$, luego $3x_0^2 - 2x_0 = 8 \Rightarrow \begin{cases} x_0 = -4/3 < 1 \text{ (no válida)} \\ x_0 = 2 \end{cases}$

Luego el punto pedido es $(2, f(2)) = (2, 5)$

c) Si $a=1$ y $b=0$, $f(x) = \begin{cases} x & \text{si } x \leq 1 \\ x^3 - x^2 + 1 & \text{si } x > 1 \end{cases}$, $g(x) = 1 - 2x^2$

Calculamos los puntos de corte entre ambas funciones

- Si $x > 1 \Rightarrow x^3 - x^2 + 1 = 1 - 2x^2 \Rightarrow x^3 + x^2 = 0 \Rightarrow \begin{cases} x=0 \\ x=-1 \end{cases}$ ambos menores que 1. No se cortan

- Si $x \leq 1 \Rightarrow x = 1 - 2x^2 \Rightarrow 2x^2 + x - 1 = 0 \Rightarrow \begin{cases} x = 1/2 \\ x = -1 \end{cases}$ ambos menores que unen. Se cortan

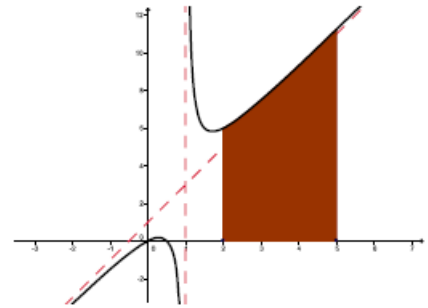
Con esto el área pedida será:

$$Area = \int_{-1}^{1/2} (g(x) - f(x)) dx = \int_{-1}^{1/2} (1 - 2x^2 - x) dx$$

Calculamos la primitiva $\int (1 - 2x^2 - x) dx = x - \frac{2x^3}{3} - \frac{x^2}{2} + C$

Luego:

$$\int_{-1}^{1/2} (1 - 2x^2 - x) dx = \left[x - \frac{2x^3}{3} - \frac{x^2}{2} \right]_{-1}^{1/2} = \left(\frac{1}{2} - \frac{2}{24} - \frac{1}{8} \right) - \left(-1 + \frac{2}{3} - \frac{1}{2} \right) = \frac{7}{24} + \frac{5}{6} = \frac{9}{8}$$



82) Sea la función $f(x) = 3e^{-2x}$

a) Ecuación recta tangente en $x = 0$: $y - f(0) = f'(0)(x - 0)$ (1)

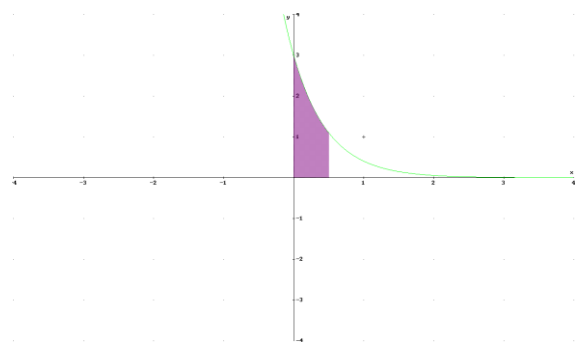
Derivando: $f'(x) = -6e^{-2x} \Rightarrow f'(0) = -6$. Como $f(0) = 3$, sustituyendo en (1)

$$y - 3 = -6(x - 0) \Rightarrow \boxed{6x + y - 3 = 0}$$

b) El área pedida será:

$$Area = \int_0^{1/2} 3e^{-2x} dx =$$

$$\left[-\frac{3e^{-2x}}{2} \right]_0^{1/2} = -\frac{3e^{-1}}{2} + \frac{3e^0}{2} = \frac{3}{2} - \frac{3e^{-1}}{2} = \frac{3}{2} \left(1 - \frac{1}{e} \right)$$



83) Sea la función $f(x) = \begin{cases} e^x & \text{si } x < 0 \\ \frac{a+3x}{x^2-4x+3} & \text{si } x \geq 0 \end{cases}$

a) Continuidad.- En $x = 0$. $\lim_{x \rightarrow 0^-} f(x) = \lim_{x \rightarrow 0^-} (e^x) = 1$; $\lim_{x \rightarrow 0^+} f(x) = \lim_{x \rightarrow 0^+} \left(\frac{a+3}{x^2-4x+3} \right) = \frac{a}{3}$

$$\text{Igualando: } \frac{a}{3} = 1 \Rightarrow \boxed{a = 3}$$

b) Asíntotas

- Verticales.- Resolviendo: $x^2 - 4x + 3 = 0 \Rightarrow \begin{cases} x = 1 \\ x = 3 \end{cases}$

$$\lim_{x \rightarrow 1} f(x) = \lim_{x \rightarrow 1} \left(\frac{a+3}{x^2 - 4x + 3} \right) = \pm\infty, \text{ es asíntota la recta } \boxed{x = 1}$$

$$\lim_{x \rightarrow 3} f(x) = \lim_{x \rightarrow 3} \left(\frac{a+3}{x^2 - 4x + 3} \right) = \pm\infty, \text{ es asíntota la recta } \boxed{x = 3}$$

- Horizontales.- $\lim_{x \rightarrow \infty} f(x) = \lim_{x \rightarrow \infty} \left(\frac{a+3}{x^2 - 4x + 3} \right) = 0$, es asíntota la recta $\boxed{y = 0}$
 - Oblicuas.- No hay
-

84) Sea la función $f(x) = x(5-x)^2$.

- a) Crecimiento-Decrecimiento** Derivando: $f'(x) = 3x^2 - 20x + 25$. Igualando a cero $\begin{cases} x = 5/3 \\ x = 5 \end{cases}$

En $\left(-\infty, \frac{5}{3}\right) \cup (5, +\infty)$ la función crece ; en $\left(\frac{5}{3}, 5\right)$ la función decrece ;

- b) Concavidad-Convexidad** Derivando dos veces: $f''(x) = 6x - 20$. Igualando a cero $x = \frac{10}{3}$

En $\left(-\infty, \frac{10}{3}\right)$ la función es cóncava (\cup); En $\left(\frac{10}{3}, +\infty\right)$ la función es convexa (\cap)

85) Sea la función $f(x) = \frac{x^3}{x^2 - 9}$.

a) Asíntotas

- Verticales.- Resolviendo: $x^2 - 9 = 0 \Rightarrow \begin{cases} x = -3 \\ x = 3 \end{cases}$

$$\lim_{x \rightarrow -3} f(x) = \lim_{x \rightarrow -3} \left(\frac{x^3}{x^2 - 9} \right) = \pm\infty, \text{ es asíntota la recta } \boxed{x = -3}$$

$$\lim_{x \rightarrow 3} f(x) = \lim_{x \rightarrow 3} \left(\frac{x^3}{x^2 - 9} \right) = \pm\infty, \text{ es asíntota la recta } \boxed{x = 3}$$

- Horizontales.- $\lim_{x \rightarrow \infty} f(x) = \lim_{x \rightarrow \infty} \left(\frac{x^3}{x^2 - 9} \right) = \infty$, No tiene

- Oblicuas.- $m = \lim_{x \rightarrow \infty} \frac{f(x)}{x} = \lim_{x \rightarrow \infty} \frac{\left(\frac{x^3}{x^2 - 9} \right)}{x} = \lim_{x \rightarrow \infty} \left(\frac{x^3}{x^3 - 9x} \right) = 1$. Como la asíntota es $y = mx + n$

$$n = \lim_{x \rightarrow \infty} (f(x) - x) = \lim_{x \rightarrow \infty} \left(\left(\frac{x^3}{x^2 - 9} \right) - x \right) = \lim_{x \rightarrow \infty} \left(\frac{9x}{x^2 - 1} \right) = 0, \text{ luego asíntota oblicua } \boxed{y = x}$$

b) Ecuación recta tangente en $x = 1$: $y - f(1) = f'(1)(x - 1)$ (*)

Derivando: $f'(x) = \frac{x^4 - 27x^2}{(x^2 - 9)^2} \Rightarrow f'(1) = -\frac{13}{32}$. Como $f(1) = -\frac{1}{8}$, sustituyendo en (*) $y + \frac{1}{8} = -\frac{13}{32}(x - 1)$

86) Sea la función $f(x) = \begin{cases} ax^2 - 3 & \text{si } x \leq 1 \\ \ln(2x - 1) & \text{si } x > 1 \end{cases}$

a) Continuidad.- En $x = 1$. $\lim_{x \rightarrow 1^-} f(x) = \lim_{x \rightarrow 1^-} (ax^2 - 3) = a - 3$; $\lim_{x \rightarrow 1^+} f(x) = \lim_{x \rightarrow 1^+} \ln(2x - 1) = \ln(1) = 0$

Igualando: $a - 3 = 0 \Rightarrow \boxed{a = 3}$

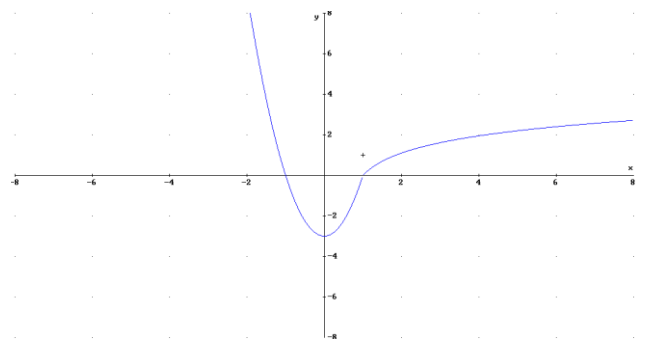
b) Si $a = 3 \Rightarrow f(x) = \begin{cases} 3x^2 - 3 & \text{si } x \leq 1 \\ \ln(2x - 1) & \text{si } x > 1 \end{cases}$

Corta a los ejes en $(-1, 0)$ y $(1, 0)$.

En $(-\infty, 0)$ la función decrece ;

En $(0, +\infty)$ la función crece.

Tiene un mínimo en $(0, -3)$



87) Sea la función : $f(x) = \frac{x}{x^2 + 2}$. Su dominio es \mathbb{R}

a) Derivando e igualando a cero $f'(x) = \frac{x^2 + 4 - 2x^2}{(x^2 + 4)^2} = \frac{4 - x^2}{(x^2 + 4)^2} = 0 \Rightarrow x^2 - 4 = 0 \Rightarrow x = \pm 2$

Estudiando el signo de la primera derivada:

	$(-\infty, -2)$	$(-2, 2)$	$(2, +\infty)$
$f'(x)$	-	+	-
$f(x)$	decreciente	creciente	decreciente

Luego: $\boxed{(-2, -1/4)}$ es un mínimo relativo y $\boxed{(2, 1/4)}$ es un máximo relativo.

b) Calculamos primero $\int f(x) dx = \int \frac{x}{x^2 + 4} dx = \frac{1}{2} \int \frac{2x}{x^2 + 4} dx = \frac{1}{2} \ln(x^2 + 4) + C$

Así $\int_0^1 f(x) dx = \left[\frac{1}{2} \ln(x^2 + 4) \right]_0^1 = \frac{1}{2} (\ln(5) - \ln(4)) = \boxed{\frac{1}{2} \cdot \ln\left(\frac{5}{4}\right)}$

$$88) \text{ Sea } f(x) = \begin{cases} x+a & \text{si } x < 1 \\ x^2 - 2 & \text{si } 1 \leq x \leq 3 \\ x+b & \text{si } x > 3 \end{cases} .$$

a) Estudiamos la continuidad en los puntos 1 y 3

• En $x = 1$

$$\lim_{x \rightarrow 1^-} f(x) = \lim_{x \rightarrow 1^-} (x+a) = 1+a \quad ; \quad \lim_{x \rightarrow 1^+} f(x) = \lim_{x \rightarrow 1^+} (x^2 - 2) = -1$$

$$\text{Igualando: } 1+a = -1 \Rightarrow a = -2$$

• En $x = 3$

$$\lim_{x \rightarrow 3^-} f(x) = \lim_{x \rightarrow 3^-} (x^2 - 2) = 7 \quad ; \quad \lim_{x \rightarrow 3^+} f(x) = \lim_{x \rightarrow 3^+} (x+b) = 3+b$$

$$\text{Igualando: } 7 = 3+b \Rightarrow b = -4$$

$$b) \int_1^3 f(x) dx = \int_1^3 (x^2 - 3) dx = \left[\frac{x^3}{3} - 3x \right]_1^3 + \left(\frac{27}{3} - 9 \right) - \left(\frac{1}{3} - 3 \right) = 3 - \frac{1}{3} = \frac{8}{3}$$

89) Sea $f(x) = 4x^3 - 3x^2 - 2x$. Recta tangente en $x = 1$. Su ecuación es: $y - f(1) = f'(1)(x - 1)$

Derivando $f'(x) = 12x^2 - 6x - 2$. Así: $f'(1) = 4$. Como $f(1) = -1$, se tiene: $y + 1 = 4(x - 1)$

$$b) \int_2^3 (4x^3 - 3x^2 - 2x) dx = \left[\frac{4x^4}{4} - \frac{3x^3}{3} - \frac{2x^2}{2} \right]_2^3 = [x^4 - x^3 - x^2]_2^3 = 45 - 4 = 41$$

90) Sea la función $f(x) = \frac{x^2}{x-2}$.

a) Asíntotas.-

• Verticales.- Resolviendo: $x - 2 = 0 \Rightarrow x = 2$

$$\lim_{x \rightarrow 2} f(x) = \lim_{x \rightarrow 2} \left(\frac{x^2}{x-2} \right) = \pm\infty, \text{ es asíntota la recta } x = 2$$

• Horizontales.- $\lim_{x \rightarrow \infty} f(x) = \lim_{x \rightarrow \infty} \left(\frac{x^2}{x-2} \right) = \infty$, No tiene

• Oblicuas.- $m = \lim_{x \rightarrow \infty} \frac{f(x)}{x} = \lim_{x \rightarrow \infty} \left(\frac{x^2}{x(x-2)} \right) = \lim_{x \rightarrow \infty} \left(\frac{x^2}{x^2 - 2x} \right) = 1$. Como la asíntota es $y = mx + n$

$$n = \lim_{x \rightarrow \infty} (f(x) - x) = \lim_{x \rightarrow \infty} \left(\left(\frac{x^2}{x-2} \right) - x \right) = \lim_{x \rightarrow \infty} \left(\frac{x^2 - x^2 + 2x}{x-2} \right) = \lim_{x \rightarrow \infty} \left(\frac{2x}{x-2} \right) = 2, \text{ luego asíntota } \boxed{y = x + 2}$$

b) Crecimiento-Decrecimiento Derivando: $f'(x) = \frac{x^2 - 4x}{(x-2)^2}$. Igualando a cero $\begin{cases} x=0 \\ x=4 \end{cases}$

Como el dominio es $R - \{2\}$, estudiando el signo de la 1ª derivada:

En $(-\infty, 0) \cup (4, +\infty)$ la función crece; en $(0, 2) \cup (2, 4)$ la función decrece

91) Sea la función $f(x) = \frac{(x-3)^2}{x(x-2)}$

a) Asíntotas.- Verticales.- $\lim_{x \rightarrow 0} f(x) = \lim_{x \rightarrow 2} f(x) = \pm\infty$. Es asíntota la recta $\boxed{x=0}$

$$\lim_{x \rightarrow 2} f(x) = \lim_{x \rightarrow 2} \left(\frac{(x-3)^2}{x(x-2)} \right) = \pm\infty. \text{ Es asíntota la recta } \boxed{x=2}$$

Horizontales.- $\lim_{x \rightarrow \infty} f(x) = \lim_{x \rightarrow \infty} \left(\frac{(x-3)^2}{x(x-2)} \right) = \lim_{x \rightarrow \infty} \left(\frac{x^2 - 6x + 9}{x^2 - 2x} \right) = 1$, luego $\boxed{y=1}$

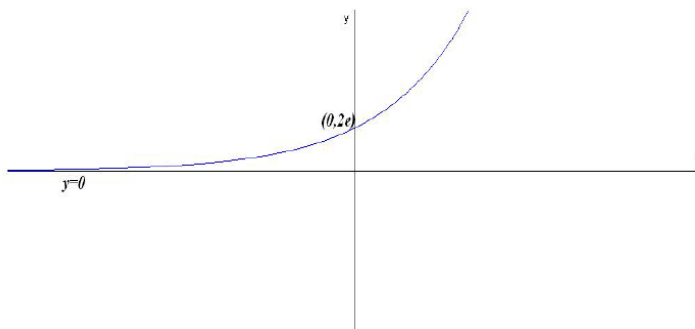
Oblicuas.- No tiene, pues tiene horizontales

b) Derivando: $f'(x) = \frac{2(x-3)(2x-3)}{x^2(x-2)^2}$. Evaluando $f'(4) = \frac{10}{64} > 0$, luego creciente

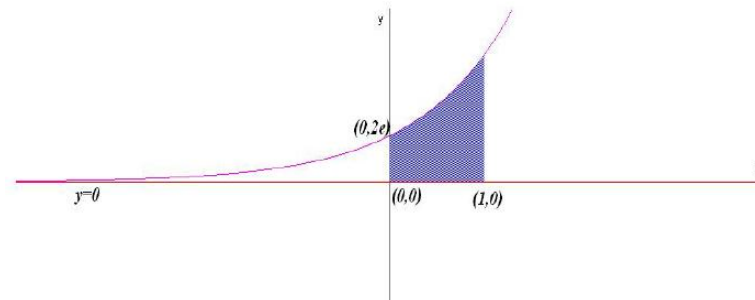
92) Sea la función $f(x) = 2e^{x+1}$. Es siempre positiva y su dominio es R

a) Derivando: $f'(x) = 2e^{x+1} \neq 0$. Luego no tiene ni máximos ni mínimos. Es más, siempre es creciente. Como $2e^{x+1} \neq 0$, no corta al eje OX, al eje OY en $(0, 2e)$

Por último, $\lim_{x \rightarrow -\infty} 2e^{x+1} = 0$, luego el semieje OX negativo es asíntota horizontal.



b) El área pedida será: $\int_0^1 f(x) dx = \int_0^1 (2e^{x+1}) dx = \left[2e^{x+1} \right]_0^1 = (2e^2) - (2e) = 2e(e-1)$



93) Sea la función $f(x) = \frac{\lambda x}{4+x^2}$.

a) Si la recta tangente a la función en $x = -1$ es paralela a $y = 2x - 3$, se tendrá que $f'(-1) = 2$

Derivando en la función $f'(x) = \frac{4\lambda - \lambda x^2}{(4+x^2)^2} \Rightarrow f'(-1) = \frac{3\lambda}{25} = 2 \Rightarrow \lambda = \frac{50}{3}$

b) Si $\lambda = 1$, $f(x) = \frac{x}{4+x^2}$

$$\int_0^2 f(x) dx = \int_0^2 \frac{x}{4+x^2} dx = \frac{1}{2} \int_0^2 \frac{2x}{4+x^2} dx = \left(\frac{1}{2} \ln(4+x^2) \right)_0^2 = \frac{1}{2} \ln(8) - \frac{1}{2} \ln(4) = \frac{1}{2} \ln(2)$$